

YAKIN DOĞU İLKOKULU

2017-2018 DERS YILI

5.SINIF 3. BURS SIRALAMA SINAVI

24 MAYIS 2018 PERŞEMBE

Adı – Soyadı:.....

Not:.....

Sınıf :.....

Süre : 90dk.

1.OTURUM SORU KİTAPÇIĐI

TÜRKÇE- SOSYAL BİLGİLER –FEN VE TEKNOLOĐI

GENEL AÇIKLAMA

1. Bu kitapçık Türkçe – Sosyal Bilgiler - Fen ve Teknoloji sorularını içermektedir. Kitapçık 25 sayfadan oluşmaktadır.
2. Bu test 30 Türkçe, 10 Sosyal Bilgiler ve 10 Fen ve Teknoloji sorusundan oluşmaktadır. (Toplam 50 soru) Tüm soruları yanıtlamanız için size 90 dakikalık süre verilecektir.
3. Her sorunun 4 seçeneđi vardır. Doğru yalnız bir tanesidir. Cevap anahtarındaki doğru cevabın harfini kurşun kalemle iyice karalayınız.
4. Bir soruda birden çok seçenek karalanırsa o soru yanlış olarak değerlendirilir.
5. Bilmediđiniz soru üzerinde fazla zaman harcamayınız. Zamanınız kalırsa tekrar dönersiniz.

TÜRKÇE TESTİ

1. Aşağıdaki cümlelerin hangisinde ünsüz yumuşamasına uğramış bir sözcük yoktur?

- A) Söylediğin bu sözün herkesi kıracağına tahmin etmiyor musun?
- B) Çocukların ihtiyacı olan kalem, silgi ve defteri okul veriyor.
- C) Sınavlara hazırlık için aldığı cevap kağıdını kardeşi karaladı.
- D) Bu toplantıyı siz sayın velilerimizi bilgilendirmek için düzenledik.

2.

- 1- Kara haber tez duyulur.
- 2- Bugünün işini yarına bırakma.
- 3- Bir ipte iki cambaz oynamaz.
- 4- El elin eşeğini türkü çağırarak arar.

Yukarıda numaralandırılmış atasözlerinden hangilerinde sıfat tamlaması vardır?

- A) 1. ve 2.
- B) 1. ve 3.
- C) 2. ve 3.
- D) 2. ve 4.

3. Aşağıdaki cümlelerin hangisinde, açık sözcüğü gerçek anlamda kullanılmamıştır?

- A) Güvercin açık pencereden içeriye girmiş.
- B) Bu konu çok ciddi, lütfen benimle açık konuş.
- C) Bugün Pazar olduğu için dükkânların hiçbiri açık değil.
- D) Teneffüse çıkarken çantalarınızı açık bırakmayın, paranızı yanınıza alın.

TÜRKÇE TESTİ

“Bambu, insanların işine en çok yarayan bitkilerdendir. Bambunun küçük fidanları sebze olarak yenir, ya da sirke içerisinde konup turşusu yapılır. Bazı bambu türleri ilaç olarak kullanılır. Bambu ile çok güzel mobilyalar ve başka ev eşyaları bile yapılabilir.”

4. Bu parçada bambu ile ilgili olarak aşağıdakilerden hangisinden söz edilmemiştir?

- A) Ev eşyası üretiminde kullanıldığından.
- B) Gıda olarak tüketildiğinden.
- C) Ulaşım aracı olarak kullanıldığından.
- D) İlaç yapımında yararlanıldığından.

5. “Dalgıçlar kaybolan çocuğu aramak için gölün durgun sularına daldılar.” Yukarıdaki cümlede altı çizilmiş olan sözcüklerin yapılarına göre çeşitleri hangi seçenekte doğru olarak verilmiştir?

- A) Türemiş- basit- basit- türemiş.
- B) Basit- türemiş- basit- türemiş.
- C) Türemiş- basit- türemiş- türemiş.
- D) Türemiş- basit- basit- basit.

TÜRKÇE TESTİ

6.

1. tırmanmamıştır.
2. elleri
3. cepte
4. merdivenini
5. hiç kimse
6. başarı

Yukarıda verilen sözcükler hangi sırayla dizilirse anlamlı ve kurallı bir cümle oluşur?

- A) 5- 6- 4- 2- 3- 1
- B) 4- 2- 5- 6- 3- 1
- C) 6- 3- 5- 1- 4- 2
- D) 1- 5- 6- 3- 4- 2

7. Aşağıdaki cümlelerin hangisinde fiilin belirttiği iş henüz yapılmamıştır?

- A) Hamitköy'de sokak aralarındaki yollar belediye tarafından tamir edildi.
- B) Ninem gençliğinde çok çalışmış.
- C) Okulumuzun bahçesine yapılan halı saha hafta sonuna doğru açılacak.
- D) Ormanlık alanda çıkan yangını itfaiye ve vatandaşlar söndürdü.

TÜRKÇE TESTİ

8.

()Ev alma () komşu al () () diyen atasözümüz () komşuluk ilişkilerinin önemini ne güzel anlatıyor()

Yukarıdaki paragrafta () ile gösterilen yerlere sırasıyla hangi noktalama işaretleri gelmelidir?

- A) (“) (.) (.) (”) (.) (?)
- B) (“) (,) (,) (”) (,) (.)
- C) (“) (,) (”) (.) (,) (.)
- D) (“) (,) (.) (”) (,) (.)

Kuşlar neden V şeklinde uçar, hiç düşündünüz mü? Kuşlar sürü halinde V şeklinde uçarlarken en öndeki kuşlar, havanın direncini arkadan gelen kuşlar için daha az indirir. Öndeki kuş kanadını çırpıtığında kanadının ucunda bir hava boşluğu yani bir girdap oluşur. Arkadaki kuş buraya yükselen havayı kanatlarının altında bularak ve daha az enerji harcayarak yüksekliğini korur. Bu kuşun hareketinden bir arkadaki kuş yararlanır. Bu şekilde enerji tasarrufu sağlayan sürü halindeki kuşlar, genellikle tek başına olan kuşlardan daha hızlı uçarlar.

9. Yukarıdaki parçaya göre, V şeklinde uçuşun avantajı nedir?

- A) Sürü olmanın avantajıyla birbirini korumak.
- B) Daha az yorularak daha hızlı uçmak.
- C) Havada girdap oluşturarak tehlikeli kuşları uzaklaştırmak.
- D) Sürüye liderlik yapan kuşu takip ederek gideceği yeri unutmamak.

TÜRKÇE TESTİ

10. Aşağıdaki eşleştirmelerden hangisi doğru değildir?

- A) Gidiyoruz - şimdiki zaman- I.çoğul kişi
- B) Kaçacaksın - gelecek zaman – II.tekil kişi
- C) Kapatır – geniş zaman - III. tekil kişi
- D) Yapmamış – miş’li geçmiş zaman- II.çoğul kişi

11. Aşağıdaki cümlelerin hangisinde soru sıfatı vardır?

- A) Boyacılar, ilk önce hangi odaların boyanacağını sordular.
- B) Bugün dondurmaları kim dağıtacak?
- C) Ayşe bugün okula neden gelmedi?
- D) Dışarıdan müzik sesi geliyor. Acaba, eğlence mi var?

12. Aşağıdaki cümlelerin hangisinde zamir kullanılmamıştır?

- A) Şunları bugün aldım, görmek ister misin?
- B) Bu sınıfta kimse seni üzmem.
- C) Her akşam mutlaka yürüyüşe çıkarım.
- D) Hatırladığım kadarıyla oraya yıllar önce gitmişim.

TÜRKÇE TESTİ

13.

“Doktorlar, çocukların şekerli birtakım bisküviler, çikolatalar, ambalajlanmış her türlü besinlerden uzak durmalarını öneriyorlar. Bunların yerine daha sağlıklı, besin değerleri daha yüksek olan kuruyemişlerin daha yararlı olacağını üzerinde duruyorlar”

Yukarıdaki paragrafta geçen ve aşağıdaki seçeneklerde verilen ifadelerden hangisi isim tamlamasıdır?

- A) Besin değerleri
- B) Birtakım bisküviler
- C) Çok sağlıklı
- D) Her türlü

14. **“Bu gölde herkes, istediği kadar balık tutabilir.”**

Yukarıdaki cümlelerin öge dizilişi hangi seçenekte doğru olarak verilmiştir?

- A) Özne- tümleç- yüklem- tümleç - yüklem.
- B) Tümleç- özne- tümleç- tümleç - yüklem.
- C) Tümleç- özne- yüklem-tümleç - tümleç.
- D) Özne- tümleç- tümleç- yüklem - yüklem.

TÜRKÇE TESTİ

Eğer çocuklar üstlendikleri rolleri yapamıyorlarsa, bu kısmen biz yetişkinlerin onlara fırsat sunmamamızdan kaynaklanmaktadır. Çocukların araştırmacı olabilecekleri, özellikle de sosyal araştırmacı olabilecekleri gerçeği, çoğu yetişkinin hayal gücünü zorlamaktadır.

Geçtiğimiz son yirmi yılda, yeni bir alan olan çocukluk araştırmaları konusunda çalışan araştırmacılar, çocukları varlıklar ve çocukluğu da sosyal bir olgu olarak görmeye başladılar. Bu araştırmacılar; çocukların yetersizlikleri ve pasiflikleri ilgili olarak çocukların tıpkı yetişkinler gibi kendi dünyaları çerçevesinde hareket eden ve toplumun inşa edilmesinde katkıda bulunan sosyal aktörler olduklarının kabul edilmesi gerektiğini vurgulamışlardır.

15. Yukarıdaki parçaya göre çocukların üstlendikleri rolleri yapamamalarının sebebi nedir?

- A) Çocukların hayal gücünün kuvvetli olması.
- B) Yetişkinlerin çocuklarla ilgili yeterli araştırmaları yapmaması.
- C) Yetişkinlerin çocuklara yeterli fırsatları vermemesi.
- D) Çocukların bu rolü yaparken pasif olması.

16. Aşağıdaki cümlelerin hangisinde zıt anlamlı sözcükler bir arada kullanılmamıştır?

- A) Antibiyotikler vücuttaki zararlı bakterileri öldürürken yararlı bakterileri de öldürür.
- B) Zor bulduğum soruları birkaç defa okuyunca kolay çözdüm.
- C) Nasrettin Hoca kaybettiği eşeğini bulunca çok sevinmiş.
- D) Dün okula gitmedim, yarın da gitmeyeceğim.

TÜRKÇE TESTİ

17. Aşağıdaki cümlelerin hangisinde topluluk ismi kullanılmamıştır?

- A) Disiplin kurulu bugün toplanıp Ferdi hakkında karar verecek.
- B) Bahçıvan bahçedeki bütün yaprakları topladı.
- C) Takımımız bu yıl üç şampiyonluk kazandı.
- D) Ülkemizin güvende oluşunu ordumuza borçluyuz.

18. Aşağıdaki cümlelerin hangisinde belgisiz zamir vardır?

- A) Okulumuzun basketbol takımına bizim sınıftan kimse giremedi.
- B) Bütün hayvanlar ormanda toplanıp aslanı kral seçmişler.
- C) Bir hafta sonra yine bir gün tatilimiz var.
- D) Sınıfta her kafadan bir ses çıkınca öğretmenimiz kızdı.

19.

Yaş otuz beş yolun yarısı eder.

Dante gibi ortasındayız ömrün

1

Her doğan günün bir derdi olduğunu

2

İnsan bu yaşa gelince anlar

Yukarıdaki dörtlükte numaralandırılmış olan sözcüklerdeki ses olayları aşağıdaki hangi seçenekte sırasıyla doğru verilmiştir?

1

2

- A) ünsüz benzeşmesi - ünlü düşmesi
- B) ünsüz yumuşaması – ünlü düşmesi
- C) ünlü düşmesi – ünsüz yumuşaması

TÜRKÇE TESTİ

D) ünlü düşmesi – ünsüz benzeşmesi

Toprak tüm canlıları ana gibi besler. Toprağa karışan her çeşit tohum gözünüzü açıp kapatıncaya kadar bir bakarsınız yaprak yaprak uzar, sebze olur, ot olur. Sonra bunları insan, hayvan, kurt, kuş yer. Toprak, atılan çöpleri de gübre yapar. Yeter ki atılan çöpler kalıcı kirlilik yapan çöp olmasın...

20. Yukarıdaki paragrafta toprakla ilgili olarak aşağıda verilenlerden hangisi çıkarılamaz?

- A) Toprak, canlılar için besin üretir.
- B) Toprak, her türlü çöpü gübre yapar.
- C) Toprak, tohumları bitki haline getirir.
- D) Toprak, canlılar için vazgeçilmezdir .

21. Aşağıdaki cümlelerin hangisinde eylemi gerçekleştiren kişi birinci çoğul kişidir?

- A)Ödevler bitince parka gidiniz.
- B) Ahmet gelmezse proje ödevini yapmayacağım.
- C) Her zaman olduğu gibi yine okula geç kaldılar.
- D) Bu bayram akrabalarımızın tümünü ziyaret edeceğiz.

22. Aşağıdaki cümlelerin hangisinde –de, -da ekinin yazılışı doğrudur?

- A) Hafta sonu sinemaya Ahmet’de gidecek.
- B) Ödev defterim arkadaşım da kalmış.
- C) Sınavlarda başarılı olmak için çok çalışırım.

TÜRKÇE TESTİ

D) Bana gösterdiğiniz elbiselerin hiçbirinide beğenmedim.

Bencil insan yalnız kendini düşünen, kendi çıkarını herşeyden üstün tutan insandır. Yalnız kendilerini düşünenler, olayları ve fikirleri daima kendi çıkarları açısından değerlendirirler. Bunlar, çıkarları herhangi bir zaman baltalandığında, her türlü kötülüğü yapabilecek kadar canavarlaşırlar. Bencil insanlar, başkalarına yardım etmekten zevk almadıkları için mutluluk dediğimiz iç rahatlığından yoksundurlar. Bu gibiler karamsar dünyalarına kendi kendilerini hapsetmişlerdir.

(Aşağıdaki iki soru yukarıdaki parça ile ilgilidir.)

23. Bencil insanlar mutluluk denilen iç rahatlığından neden yoksundurlar?

- A) Başkalarına yardım etmekten zevk almadıkları için .
- B) Sevdiklerinin problemleri onları çok üzdüğü için.
- C) Mutluluk onların en önemli düşünceleri olduğu için.
- D) Başkalarına yardım etmek onları mutlu ettiği için.

24. Bencil insanlar hangi durumda her türlü kötülüğü yapabilecek hale gelirler?

- A) Birileri dostlarına zarar verdiğinde.
- B) Kendi çıkarları zarar gördüğünde.
- C) İşleri çıkmaza girdiğinde.

TÜRKÇE TESTİ

D) Başkaları tarafından incitildiklerinde.

25. “**Biz, o konuyu çoktan bitirdik, siz hâlâ ona mı çalışıyorsunuz?**”

Yukarıdaki cümlede altı çizili sözcüklerin çeşitleri sırasıyla hangi seçenekte doğru olarak verilmiştir?

A) Kişi zamiri - işaret zamiri - kişi zamiri – işaret sıfatı

B) Kişi zamiri - işaret sıfatı - kişi zamiri – işaret sıfatı

C) Kişi zamiri - işaret sıfatı - kişi zamiri – işaret zamiri

D) Kişi zamiri - işaret zamiri - kişi zamiri – işaret zamiri

26.

Her saniye nefes alırken kullandığımız temiz hava nasıl oluyor da hiç bitmiyor? Bütün canlılar binlerce yıldır oksijeni kullandıkları halde oksijen bir türlü bitmiyor. Demek ki sürekli olarak oksijen üretiliyor. İyi de nerede ve nasıl üretiliyor? Atmosferin dışında uzayda oksijen yoktur. Oksijen doğal gaz gibi çıkarılmıyor. O zaman bu temiz havanın kaynağı ne? Bilim insanları yüzlerce yıl önce bu konuyu merak edip uzun yıllar süren araştırmalar yapmışlar. Bu araştırmalar sonunda temiz hava üreten birçok canlı fabrika olduğunu bulmuşlar. Bunlar, yeşil bitkilerin ta kendileriymiş.

Aşağıda verilenlerden hangisine bu parçada yer verilmemiştir?

A) Canlılar oksijeni kullanarak gerekli enerjiyi elde ederler.

B) Oksijen uzayda bulunmayan bir gazdır.

C) Oksijenin bitmiyor olması, dünyada üretildiğini gösterir.

D) Yeşil bitkiler oksijen üretmektedir.

27. Aşağıdaki cümlelerin hangisinde devam eden bir eylem vardır?

- A) Dün, pazar yerinden çok güzel çilekler aldım.
- B) Annem ve babam gençlik yıllarını bu köyde geçirmiş.
- C) Müdür bey futbol finalini izleyecek.
- D) Yaz tatilinin gelmesini dört gözle bekliyorum.

28. Aşağıdaki cümlelerde altı çizilmiş olan sözcüklerden hangisi çekim eki almamıştır?

- A) Kıbrıs'ta yazın havalar çok sıcak olur.
- B) Biz Kıbrıs'ta sıcağa dayanabilmeyi öğrendik.
- C) Alagadi Sahili'nden biraz içeride kaplumbağalar size eşlik eder.
- D) Mahallemizin en yaşlısı Ayşe ninemizi kaybettik.

29. Aşağıdaki cümlelerin hangisinde hem basit hem türemiş hem de birleşik kelime vardır?

- A) Ahmet çok deney yaparak bilgin olacağını düşünüyor.
- B) Pazartesi günü evdeki eski ocağı eskiciye sattım.
- C) Ayşe'nin babası taksicilik yaparak geçimini sağlıyor.
- D) Salondaki bu çekyat çok eski görünüyor.

TÜRKÇE TESTİ

30.

VÜCUDUMUZ

Dört bölümdür vücudumuz,
Baş, gövde, kollar, bacaklar.
Hepsini tutalım temiz,
İşleyip çalışacaklar.
Vücuda iyi bakalım,
Temiz mendil kullanalım.
Temiz hava, temiz suyu,
Unutmayalım uykuyu.
Güneş sağlığın temeli,
İyi gıdalar yemeli,
Makine gibidir vücut.

Aşağıdaki düşüncelerden hangisi yukarıdaki şiirde geçmemektedir?

- A) Temiz havada dolaşmalıyız.
- B) Vücudumuza iyi bakmalıyız.
- C) Hayatta ne istiyorsak onu yapmalıyız.
- D) Uyku düzenimize dikkat etmeliyiz.

TÜRKÇE TESTİNİZ BITMİŞTİR.

YANITLARINIZI KONTROL EDEREK SOSYAL BİLGİLER TESTİNE GEÇİNİZ.

SOSYAL BİLGİLER TESTİ

31. Genelde bulunduğu kenti Arap akınlarına karşı korumak amacıyla M.S. VII yüzyılda Bizanslılar tarafından yapıldığına inanılan tarihi eser aşağıda verilenlerden hangisidir?

- A) Salamis Antik Kenti
- B) Baf Kalesi
- C) Girne Kalesi
- D) Bufavento Kalesi

32.

- 1- Yalnızca çocuklar için hazırlanan ve çocukları güvence altına alan ve dünyadaki birçok devlet tarafından imzalanan evrensel sözleşmeye insan hakları sözleşmesi denir.
- 2- Okulun araç ve gereçlerine zarar vermemek benim sorumluluğumdur.
- 3- Birleşmiş Milletlerin çocuklara yardım için kurduğu kurumun adı Unicef'tir.
- 4- Görevini yerine getirmeyen bir kişinin hesap verme durumuna rol denir.
- 5- Her çocuk sağlıklı bir ortamda yaşama hakkına sahiptir.

Yukarıda verilenlerden hangileri doğrudur?

- A) 2, 3 ve 5.
- B) 2, 3 ve 4.
- C) 1, 3 ve 5.
- D) 3, 4 ve 5.

SOSYAL BİLGİLER TESTİ

33.

- 1- Ülkemizin yüzey şekillerini öğrenmek için _____ haritalara bakarız.
- 2- Bir ülkenin yüzey şekillerini değil, dünya üzerindeki yerini, komşularını öğrenmek için _____ haritalara bakarız.
- 3- Dünyanın bütününün veya parçasının kuşbakışı görünüşünün belli oranda küçültülerek çizilmesine _____ denir.
- 4- Ayrıntıların fazla gösterildiği küçük alanlar için çizilen haritalara _____ denir.

- a) Siyasi
- b) Plan
- c) Fiziki
- d) Harita

Yukarıdaki ifadelerde boş bırakılan yerlere sağdakileri nasıl yerleştirirsek doğru olur?

- A) 1-a, 2-c, 3-d, 4-b
- B) 1-c, 2-a, 3-d, 4-b
- C) 1-a, 2-b, 3-a, 4-c
- D) 1-c, 2-d, 3-b, 4-a

34.

“Çok eski zamanlarda ticaret yapılırken insanlar mallarını değiş tokuş yapıyorlardı. Daha sonra ticaretin geliştirilmesi ve daha hızlı yapılması için ortak bir değişim aracına ihtiyaç duyuldu ve para keşfedildi. Parayı ilk bulanlar _____’dir.”

Yukarıdaki paragraftaki ifadenin doğru olması için boş bırakılan yere aşağıda verilenlerden hangisi gelmelidir?

- A) Sümerler
- B) Mısırlılar
- C) Libyalılar
- D) Lidyalılar

SOSYAL BİLGİLER TESTİ

35. Aşağıdaki seçeneklerde verilen tarihi eserlerden hangisi Osmanlılar tarafından yapılmış bir tarihi eser değildir?

- A) Selimiye Camisi
- B) Büyük Han
- C) Derviş Paşa Konağı
- D) Arap Ahmet Camisi

36.

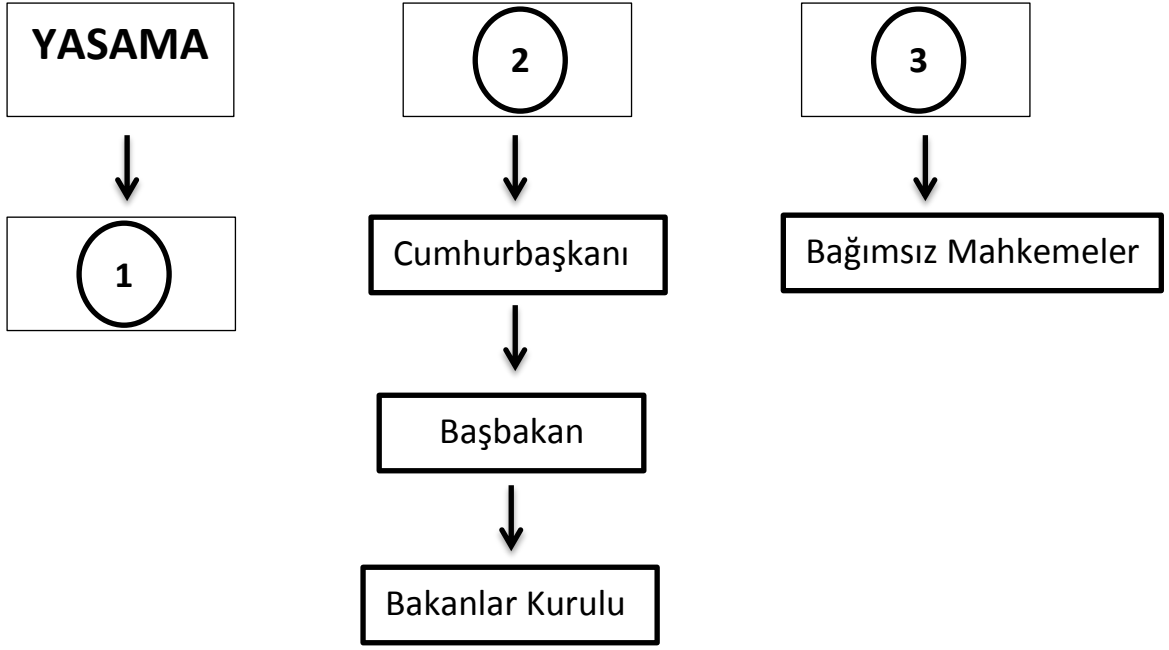
- 1- () Trafik Kazalarını Önleme ve Yardım Derneği kazaya sebep olan suçluyu bulmakta bize yardımcı olur.
- 2- () Gönüllülük, bireylerin karşılık beklemeden ve isteyerek çalışmasıdır.
- 3- () Belirli ve ortak bir amacı gerçekleştirmek için kurulan yasal topluluğa dernek denir.
- 4- () Resmi kurumlarda çalışan insanlar gönüllülerden oluşur, maaş veya ücret almazlar.

Yukarıdaki ifadelerden doğru olanın başındaki () yere "D", yanlış olana "Y" harfi koyarsak aşağıdaki seçeneklerden hangisi doğru olur?

- A) 1-(D), 2-(D), 3-(D), 4-(Y)
- B) 1-(Y), 2-(D), 3-(D), 4-(Y)
- C) 1-(Y), 2-(D), 3-(D), 4-(D)
- D) 1-(Y), 2-(D), 3-(Y), 4-(D)

SOSYAL BİLGİLER TESTİ

37.



Yukarıdaki tabloda KKTC Devleti'nin yönetim yapısı verilmiştir. Bu tabloda rakamlar verilmiştir. Kutulardaki rakamlar yerine aşağıdaki seçeneklerde verilenlerin hangisini yazarsak doğru olur?

	1	2	3
A)	Cumhuriyet Meclisi	Yasama	Yargı
B)	İhtiyar Heyeti	Yürütme	Cumhuriyet Meclisi
C)	Cumhuriyet Meclisi	Yürütme	Yargı
D)	Başbakan	Yürütme	Yargı

SOSYAL BİLGİLER TESTİ

38.

Hürriyet - Halkın Sesi – Yeni Bakış – Sabah – Havadis –
Diyalog – Posta – Cumhuriyet – Ortam – Sözcü - Yenidüzen

Yukarıdaki tabloda verilen gazetelerden kaç tanesi yerel gazetelerimizdendir?

A) 5

B) 7

C) 6

D) 8

39.

A

Narenciye, hurma, ceviz	
Kolokas, çilek, muz	
Patates, tahıl	
Enginar, tahıl	
Narenciye, Seracılık	

Yukarıdaki A tablosunda ülkemizde yetiştirilen bazı tarım ürünleri verilmiştir. B tablosunda bu ürünlerin yetiştirildiği yerleşim yerleri boş bırakılmıştır. Boş bırakılan bu tablo yerine aşağıdakilerden hangisi gelmelidir?

A)

Yeşilırmak
İskele
Güzelyurt
Lefke
Beyarmudu

B)

Lefke
Yeşilırmak
Beyarmudu
İskele
Güzelyurt

C)

Lefke
Beyarmudu
İskele
Yeşilırmak
Güzelyurt

D)

Lefke
İskele
Güzelyurt
Yeşilırmak
Beyarmudu

SOSYAL BİLGİLER TESTİ

40.

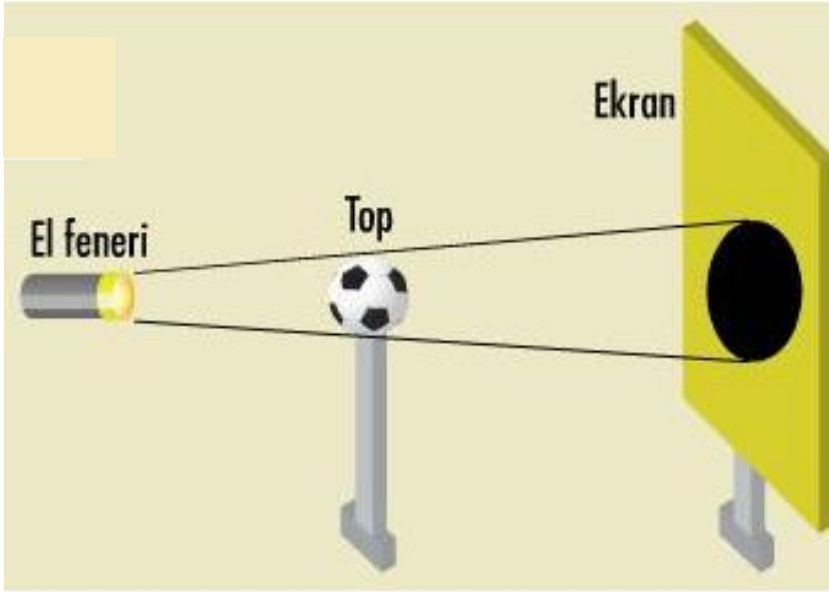
- 1- Dünyayı kuzey ve güney olmak üzere iki eşit parçaya bölen paralel dairesine Ekvator denir.
- 2- Kıbrıs'ın Dünya haritası üzerindeki yeri Ekvator'un kuzeyinde ve başlangıç meridyeni Greenwich'in batısındadır.
- 3- Haritalardan sembollerin gösterildiği bölüme ölçek denir.
- 4- Fiziki haritalardan deniz seviyesinden fazla yüksek olmayan yerler yeşil ve tonlarıyla gösterilir.
- 5- Kıbrıs adası üzerinden 35° kuzey paraleli ile 33° ve 34° doğu meridyen tam olarak geçer.

Yukarıda verilen bilgilerden kaç tanesi doğrudur?

- A) 2
- B) 4
- C) 1
- D) 3

SOSYAL BİLGİLER TESTİNİZ BİTMİŞTİR.
YANITLARINIZI KONTROL EDEREK FEN VE TEKNOLOJİ TESTİNE GEÇİNİZ.

41.



Yukarıda tam gölge deneyi yapan Ahmet, aşağıdaki sonuçlardan hangisine ulaşamaz?

- A) Işık doğrusal yollarla yayılır.
- B) Bu deneyde futbol topu opak bir maddedir.
- C) Futbol topu yuvarlak olduğu için perdedeki gölgede yuvarlak oluşur.
- D) Futbol topu el fenerine yaklaştırıldığı zaman perdedeki tam gölge küçülür.

42.

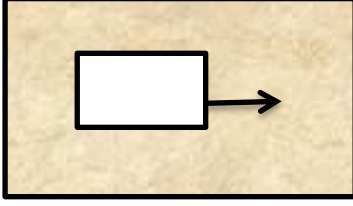


Yukarıdaki panoya yazılan sorunun doğru cevabı aşağıdakilerden hangisidir?

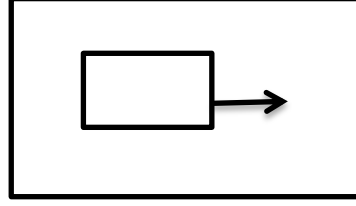
- A) Gaz halindeki bir maddenin ısı vererek doğrudan katı hale geçmesine denir.
- B) Katı haldeki bir maddenin ısı alarak doğrudan gaz haline geçmesine denir.
- C) Sıvı haldeki bir maddenin ısı alarak gaz haline geçmesine denir.
- D) Gaz halindeki bir maddenin ısı vererek sıvı haline geçmesine denir.

FEN VE TEKNOLOJİ TESTİ

43.



Toprak yüzey



Cam yüzey

Yukarıdaki gibi aynı cismi önce toprak bir yüzeyde, sonra da cam yüzeyde çekiyoruz. Yaptığımız bu deneye göre aşağıdaki yorumlardan hangisi doğrudur?

- A) Cisim toprak yüzeyde daha hızlı gider.
- B) Cisim cam yüzeyde daha yavaş gider.
- C) Cisim cam yüzeyde hareket etmez.
- D) Toprak yüzeydeki sürtünme kuvveti cam yüzeydeki sürtünme kuvvetinden daha büyüktür.

44.

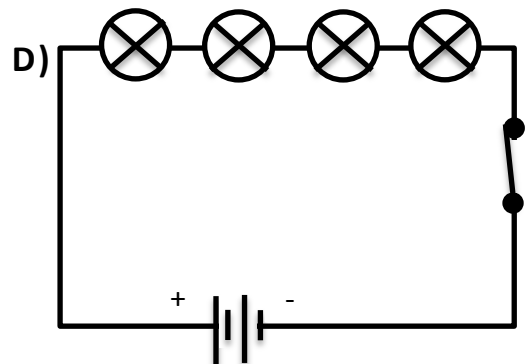
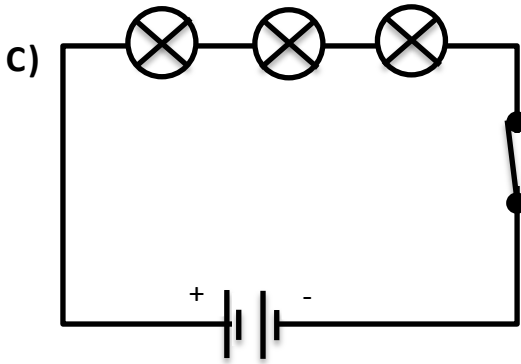
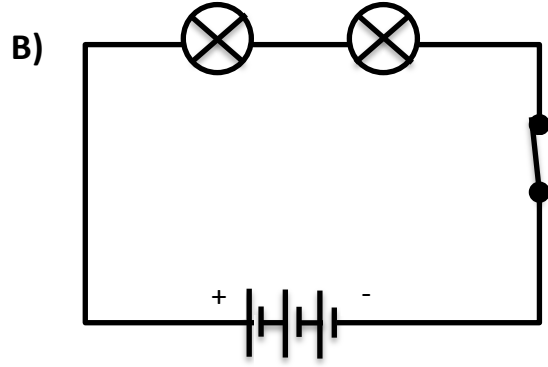
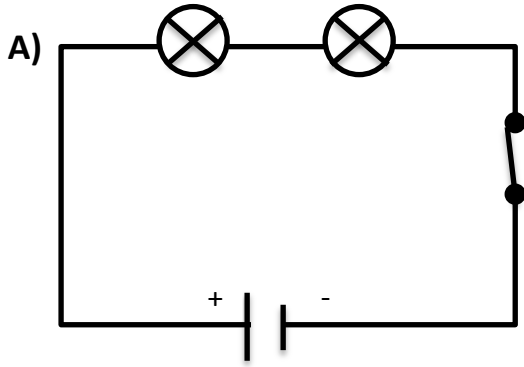


Yukarıda Salih ve Ayşe'nin bir ses kaynağına olan uzaklıkları verilmiştir. Buna göre aşağıdaki seçeneklerden hangisi doğrudur?

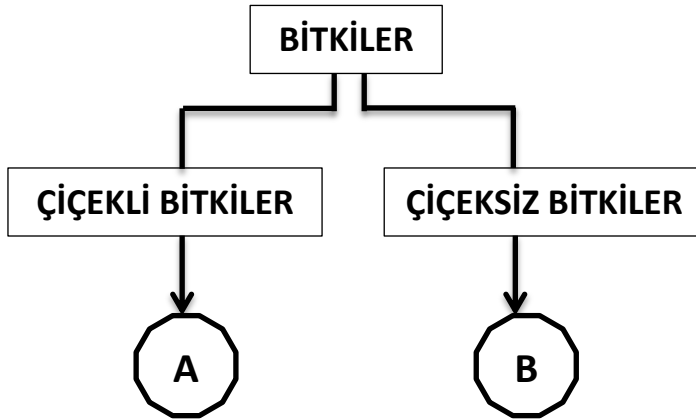
- A) Salih ile Ayşe sesi aynı şiddette duyar.
- B) Ayşe, sesi Salih'ten daha şiddetli duyar.
- C) Salih, sesi Ayşe'den daha şiddetli duyar.
- D) Ayşe, ses kaynağına yaklaşırsa sesi daha az şiddette duyar.

FEN VE TEKNOLOJİ TESTİ

45. Aşağıda şema halinde verilmiş elektrik devrelerinden hangisi en parlak ışığı verir?



46.



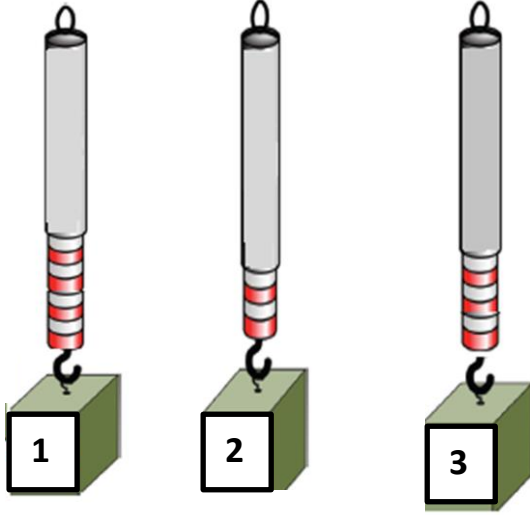
Yukarıdaki şemada bitkilere verilecek örnekler A, çiçeksiz bitkilere verilecek örnekler ise B ile gösterilecektir.

Buna göre aşağıdaki A ve B kutularına yazılan örnekler hangisinde doğrudur?

	A	B
A)	Fıstık	At kuyruğu
B)	Zeytin	Patates
C)	Eğreltiotu	Karayosunu
D)	Fındık	Turp

FEN VE TEKNOLOJİ TESTİ

47.



Yukarıda eşit kuvvetleri ölçen dinamometrelere 1-2 ve 3 numaralı kuvvetlerle aşağıya çekiyoruz.

Buna göre uyguladığımız kuvvetlerin küçükten, büyüğe doğru sıralaması hangi seçenekte doğru olarak verilmiştir?

- A) 1- 2- 3
- B) 2- 1- 3
- C) 2- 3- 1
- D) 3- 2- 1

48.

	Mum, el feneri, gaz lambası birer yapay ışık kaynağıdır.
	Gölge oluşumu ışığın doğrular boyunca yayıldığını gösterir.
	Bir ışık kaynağı ile iki tam gölge oluşturulabilir.

Yukarıdaki ifadelerden doğru olanın ön kısmına "D", yanlış olana ise "Y" harfini koyarsak aşağıda verilenlerden hangisini elde ederiz?

A)

D
D
D

B)

D
Y
D

C)

D
D
Y

D)

D
Y
Y

FEN VE TEKNOLOJİ TESTİ

49.

1.	bakır
2.	Cıva
3.	Demir

A	Boya sanayide ve diřçilikte
B	Otomotiv sanayisinde
C	Cezve, tencere gibi eřyaların yapımında

Yukarıda rakamlarla bazı madenler, karşılarında ise bunların bazı kullanım alanları verilmiştir.

Buna göre madenlerle, kullanım alanlarını eşleştirirsek aşağıdakilerden hangisi doğru olur?

A)

1- B
2- C
3- A

B)

1- C
2- A
3- B


C)

1- C
2- B
3- A

D)

1- A
2- B
3- C

50.



Sindirim yapmam
ama besinlerin
posalarındaki su ve
mineralleri emerim.

Yukarıdaki ifadeyi kullanan hangi organımızdır?

- A) İnce bağırsak
- B) Kalın bağırsak
- C) Karaciğer
- D) Mide

FEN VE TEKNOLOJİ TESTİNİZ BİTMİŞTİR. YANITLARINIZI KONTROL EDİNİZ.