

YAKIN DOĞU İLKOKULU

2018-2019 DERS YILI

5. SINIF 1. SEVİYE TESPİT

17 OCAK 2019 PERŞEMBE

Adı – Soyadı:

Not:.....

Sınıf:

Süre: 90dk.

2. OTURUM SORU KİTAPÇIĞI

MATEMATİK – İNGİLİZCE

GENEL AÇIKLAMA

1. Bu kitapçık Matematik ve İngilizce sorularını içermektedir. Kitapçık 17 sayfadan oluşmaktadır.
2. Bu test 30 Matematik ve 20 İngilizce sorusundan oluşmaktadır. (Toplam 50 soru) Tüm soruları yanıtlamanız için size 90 dakikalık süre verilecektir.
3. Her sorunun 4 seçeneği vardır. Doğru yalnız bir tanesidir. Cevap anahtarındaki doğru cevabın harfini kurşun kalemle iyice karalayınız.
4. Bir soruda birden çok seçenek karalanırsa o soru yanlış olarak değerlendirilir.
5. Bilmediğiniz soru üzerinde fazla zaman harcamayınız. Zamanınız kalırsa tekrar dönersiniz.

MATEMATİK TESTİ

1.

$$\begin{array}{r} 530A9 \\ + 2C86B \\ \hline 80D37 \end{array}$$

Yandaki toplama işleminde $A+B+C+D=?$

A) 24

B) 27

C) 29

D) 30

2. Çalışma Dairesine 01 Aralık tarihinde 51 kişi işsizlik başvurusunda bulunmuştur. Bu tarihten sonra her gün bir önceki günden 4 kişi fazla başvuru yapmıştır. Buna göre 6 Aralık akşamına kadar toplam kaç kişi işsizlik başvurusu yapmıştır?

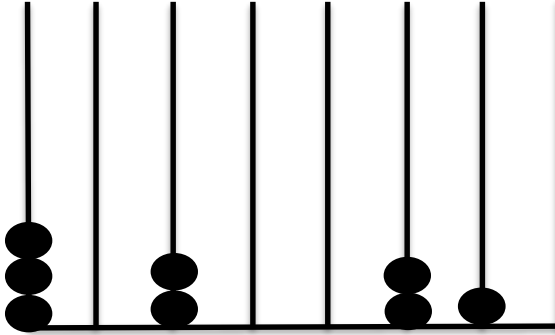
A) 395

B) 266

C) 366

D) 355

3.



Yukarıdaki abaküste oluşturmak istediğim sayı "Otuz dört milyon iki yüz yetmiş dört bin üç yüz kırk beş" sayıdır. Buna göre bu abaküse kaç tane daha boncuk eklemem gerekiyor?

A) 25

B) 24

C) 20

D) 19

MATEMATİK TESTİ

4.



2445 TL



1875 TL



765 TL

Fiyatları yukarıda verildiği gibi olan üç elektronik ürüne enflasyon nedeniyle fiyatlarına en yakın yüzlüğe yuvarlanarak değiştiriliyor. Bu değişimden sonra üçünün toplam fiyatı ne kadar artmıştır?

A) 65 TL

B) 58 TL

C) 15 TL

D) 18 TL

5. 3. terimi 34

4. terimi 41

5. terimi 48

olan bir sayı örüntüsünün 8. terimi ile 11. teriminin toplamı kaçtır?

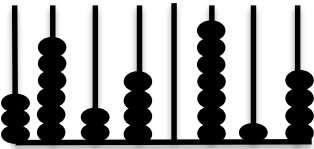
A) 138

B) 145

C) 173

D) 159

6.



— Otuz beş milyon altı yüz otuz bin dört yüz yetmiş altı

Yukarıdaki çıkarma işleminin doğru yanıtı aşağıdakilerden hangisidir?

A) 6102388

B) 610238

C) 574238

D) 612038

MATEMATİK TESTİ

7. Okulumuzda:
1. Sınıflar 174
 2. Sınıflar 163
 3. Sınıflar 142
 4. Sınıflar 181
 5. Sınıflar 195 kişidir.

Okulumuzun tüm öğrencileri ile her sınıftan 4 tane görevli öğretmen, yıl sonu gezisine gidecektir. Bunun için her biri 45 yolcu alabilen en az kaç tane otobüs gerekir?

- A) 18 B) 19 C) 20 D) 21

8. “Maşa ile Koca Ayı” oyununa giriş için bilet fiyatları çocuklara 18 TL, kadınlara 22 TL ve erkeklere de 25 TL’dir. İlk oyunu 45 çocuk, 72 erkek ve bir miktar kadın izlemiştir. Bu oyun için 4062 TL toplandığına göre bu oyunu kaç tane kadın seyirci izlemiştir?

- A) 66 B) 76 C) 54 D) 64

9. Ali ile Salih pul koleksiyonculuğu yapan iki arkadaştır. Ali’nin 13 tane pulu Salih’in ise 21 tane pulu vardır. Ali her hafta pul defterine 8 pul eklerken, Salih ise her hafta 6 pul eklemektedir.

Buna göre Ali ile Salih’in pul defterlerindeki pul sayıları kaç hafta sonra eşit olur?

- A) 3 B) 4 C) 5 D) 2

MATEMATİK TESTİ

13. Yılbaşı dolayısıyla kampanya yapan bir kuyumcu bir bilezik alana 2. bileziği yarı fiyatına veriyor. 2 bilezik alan bir müşteri 1830 TL ödediğine göre bir bilezik kaç liradır?


A) 915 TL

B) 1550 TL

C) 1250 TL

D) 1220 TL

14.



Bir bakkal 1500 adet kivi meyvesine 375 TL ödüyor. Kivileri yandaki şekilde görüldüğü gibi paketleyip her paketi 6 TL'ye satıyor. Bu bakkal tüm kivileri sattığına göre bu satıştan kaç lira kâr ediyor?

A) 215 TL

B) 225 TL

C) 245 TL

D) 275 TL

15. Doğay'ın okuduğu hikaye kitabını bitirmesine 127 sayfa kalmıştır. Doğay bu kitabın 181 sayfasını okumuş olsaydı, geriye 113 sayfa kalacaktı. Buna göre Doğay kaç sayfa kitap okumuştur?

A) 167

B) 137

C) 247

D) 294

16. 3/A sınıfındaki kız öğrencilerin sayısı erkek öğrencilerin sayısının yarısı kadardı. Kasım ayı başında bu sınıfa 3 yeni kız öğrenci geldi ve 4 erkek öğrenci ayrıldı. Şimdi 3/A sınıfında 26 öğrenci olduğuna göre bunların kaç tanesi kızdır?

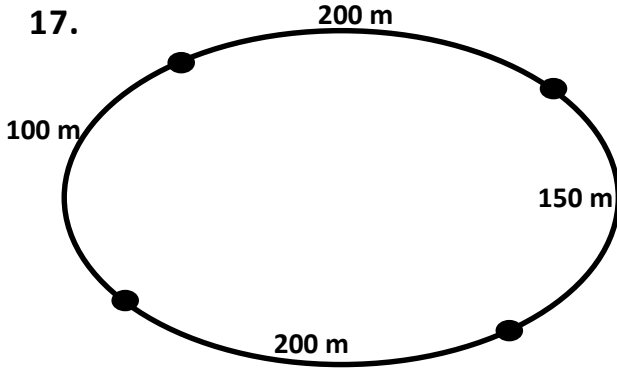
A) 9

B) 10

C) 11

D) 12

MATEMATİK TESTİ



Özel Bey sabah sporunu yanda ölçüleri verilen saha biçimindeki alanın çevresinde yürüyerek yapıyor. Özel Bey haftanın beş günü bu alanın çevresinde günde 13 tur atarak sporunu tamamlıyor. Buna göre Özel Bey bir haftada kaç metre yürüyüş yapar?

A) 42250

B) 42200

C) 8450

D) 52500

18. Babam yılbaşı dolayısıyla evimizdeki buzdolabını yenilemek istiyor. Mağazadaki fiyatı 4720 TL olan beğendiği buzdolabı için babam 530 TL taksit ödeyebileceğini söylüyor. Babam buzdolabını 8 taksitte alabilmesi için kaç TL peşinat ödemesi gerekiyor?

A) 560 TL

B) 480 TL

C) 420 TL

D) 240 TL

19.

7, 2, 9, 3

Yukarda verilen rakamları kullanarak yazılabilecek dört basamaklı en büyük doğal sayının en yakın yüzlüğe yuvarlanmış şekline A, yine aynı rakamları kullanarak yazılabilecek dört basamaklı en küçük doğal sayının en yakın yüzlüğe yuvarlanmış şekline ise B dersek; $A+B=?$

A) 11110

B) 11100

C) 12100

D) 12030

MATEMATİK TESTİ

20. İtimat → 1 saat 15 dk.

Akva → 72 dk. 108 sn.

Göçmen → 3580 sn.

Arzum → 78 dk.

Yukarıda Lefkoşa'dan Dipkarpaz'a gidiş süreleri verilen farklı otobüs şirketinin araçları aynı anda Lefkoşa'dan hareket ederse Dipkarpaz'a ilk önce hangisi gider?

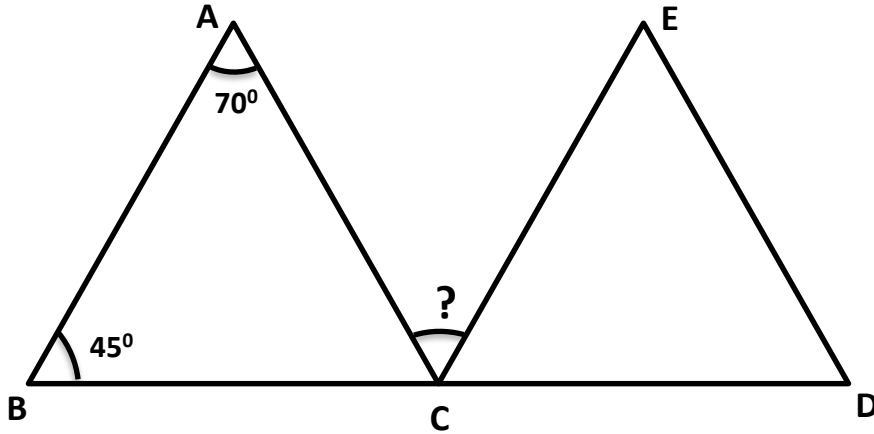
A) İtimat

B) Akva

C) Göçmen

D) Arzum

21.



Yukarıdaki şekilde CDE üçgeni bir eşkenar üçgendir ve $\widehat{ABC} = 45^\circ$,

$\widehat{BAC} = 70^\circ$ 'dir. Buna göre ? ile gösterilen $\widehat{ACE} = ?$

A) 50°


B) 55°

C) 60°

D) 65°

MATEMATİK TESTİ

22.



Yandaki duvar saati 12:55'i göstermektedir. Bu saatin akrep ve yelkovanı arasındaki küçük açının çeşidi ile 125 dakika sonra oluşacak açının çeşidi sırasıyla aşağıda verilenlerden hangisi olur?

A) Dar açı – dik açı

B) Dar açı – geniş açı

C) Dar açı – dar açı

D) Dik açı – geniş açı

23. Ayşe'nin babası Ayşe'ye karne hediyesi olarak bir bilgisayar almak istiyor. Fiyatı 6000 TL olan bilgisayara 1030 TL indirim yapılıyor. Bilgisayar için 1250 TL peşin veriyor. Geriye kalanını da 8 ay taksit yapıyor. Ayşe'nin babası her taksit için kaç lira ödeyecek?

A) 850 TL

B) 460 TL

C) 720 TL

D) 465 TL

24. I. Eşkenar üçgenin bir açısının ölçüsü 60^0 'dir.

II. Geniş açılı üçgenin bir açısının ölçüsü 90^0 'dir.

III. Tüm açıları eşit olan üçgene eşkenar üçgen denir.

IV. Bir üçgenin bir açısının ölçüsü en fazla 90^0 olabilir.

Yukardaki üçgenlerle ilgili olarak verilen ifadelerden hangileri doğrudur?

A) I ve III

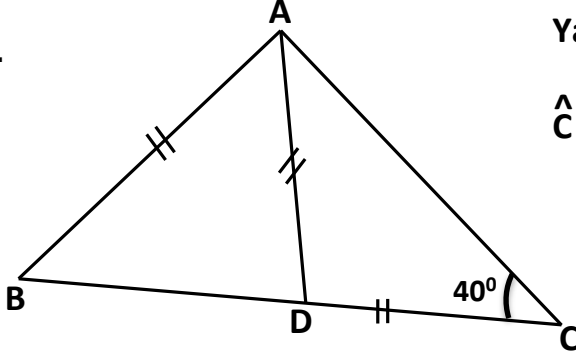
B) I, II ve III

C) II ve IV

D) I, III ve IV

MATEMATİK TESTİ

25.



Yandaki ABC üçgeninde $AB = AD = DC$ dir.

$\hat{C} = 40^\circ$ olduğuna göre $\hat{B} =$ kaç derecedir?

A) 120°

B) 80°

C) 60°

D) 90°

26. Hasan Bey 2 pantolon, 1 çift ayakkabı ve 1 gömlek için 420 TL ödüyor. 1 pantolonun fiyatı 1 gömleğin fiyatından 20 TL daha pahalı ve bir çift ayakkabı 170 TL' dir.

Buna göre bir pantolon kaç liradır?

A) 90 TL

B) 50 TL

C) 110 TL

D) 70 TL

27. Annemin marketten aldığı çikolata paketinin üzerinde son kullanma tarihi olarak 23.04.2019 yazmaktadır. Annem çikolatayı 26.12.2018 tarihinde aldığı anda, o gün bu çikolatanın son kullanma tarihine ne kadar süresi vardı?

A) 1 yıl 3 ay 27 gün

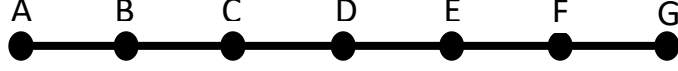
B) 3 ay 17 gün

C) 1 yıl 3 ay 17 gün

D) 3 ay 27 gün

MATEMATİK TESTİ

28.



Yukarıdaki [AG] eş parçalara ayrılmıştır. Buna göre aşağıdakilerden hangisi [BD]' a eşit değildir?

A) [AC]

B) [EC]

C) [BE]

D) [DF]

29. $76 - 16 \div 4 + 3 \times 6 =$ işleminin sonucu aşağıdakilerden hangisidir?

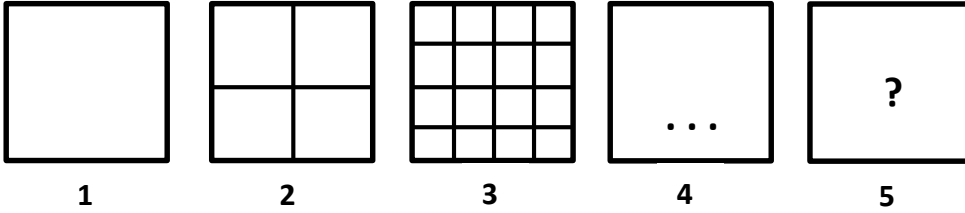
A) 108

B) 90

C) 54

D) 96

30.



Yukarıdaki kareler belirli bir kural çerçevesinde küçük karelere bölünmüştür. Aynı kurala göre soru işaretiyle gösterilen 5. kare kaç tane küçük kareye bölünmelidir?

A) 48

B) 64

C) 256

D) 128

MATEMATİK TESTİNİZ BİTMİŞTİR YANITLARINIZI KONTROL EDEREK
İNGİLİZCE TESTİNE GEÇİNİZ.

İNGİLİZCE TESTİ

Read and choose the correct answer: a, b, c or d.

1. some clouds in the sky.

- A) Is there
- B) There are
- C) There aren't
- D) There is




2. Mum: How sugar would you like in your tea?
Dad: Two spoonfuls, please.

- A) much
- B) a
- C) many
- D) some



3. Would you like butter on your bread?

- A) any
- B) a
- C) two
- D) some



İNGİLİZCE TESTİ

4. **Hugo:** there boys in your class?

Sam: Yes, eight.

- A) Is / much
- B) Are / a
- C) Are / any
- D) How many / are



5. **I have to leave home** half past seven the mornings.

- A) at / in
- B) on / at
- C) in / on
- D) at / by

6. **Sally:** my bag, mum?

Mum: It's the hall.

- A) Where / in
- B) What's / on
- C) Which / at
- D) Where's / in

7. **John:** you any pets?

Mike: Yes, a bird and cats.

- A) Does / have / three
- B) Do / has / some
- C) Has / got / an
- D) Have / got / two



İNGİLİZCE TESTİ

8. I am the fattest in the family. My sisters are me.

- A) thinner
- B) fatter
- C) thinner than
- D) thinnest

9. I can't go out now because it and I don't an umbrella.

- A) raining / have
- B) rain / have got
- C) rains / has
- D) is raining / have



10. Where are Tom and Matt? I'm looking for

- A) they
- B) them
- C) him
- D) me

11. My mum cook dinner every night.

- A) has to
- B) have to
- C) don't have to
- D) doesn't have

İNGİLİZCE TESTİ

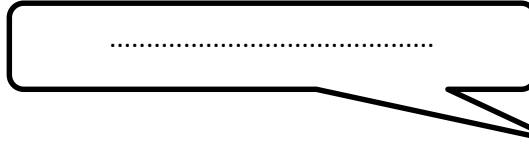
12. My dad sometimes the dog before he to work.

- A) feeds / go
- B) is feeding / is going
- C) feeds / goes
- D) feed / go

13.



Do you want to play football after school?



- a. I'm going to school.
- b. Yes, I am.
- c. My dad doesn't play football.
- d. I don't know. I have to do my homework.

14. What is the second letter of the word "August"?

- A) u
- B) t
- C) A
- D) g

15. It sometimes snows in

- A) winter
- B) Fridays
- C) my birthday
- D) the weekend



Read and answer questions 16 - 20.

Storms

Daniel loves reading and learning about storms. His storm book has interesting facts about different types of storms all around the world. There are many different types, but his favourite is the **thunderstorm**.

First, he starts reading about thunderstorms. The book says that thunderstorms are also called “electrical storms” because there is always thunder and lightning in them. Thunder is the sound of lightning and we always see the lightning first because light moves faster than sound.

Daniel also learns that storms can be dangerous but exciting too. His book says that storms are loud and scary for people but they are louder and scarier for dogs because loud noises can hurt dogs’ ears.

Daniel’s storm book gives some information about **sandstorms**, too. “In a sandstorm, a very strong wind carries sand very far, very fast” the book says. We usually see these storms in hot dry places all around the world.

Sandstorms can happen in big cities and they can be very dangerous, too. When people drive cars and a sandstorm comes, people can’t see in front of them and they have to stop the car and wait for the the storm to end. Daniel thinks this is scary, too!

16. What does Daniel love doing?

- A) Riding and skating.
- B) Reading and learning.
- C) Reading and driving.
- D) Learning and driving.

İNGİLİZCE TESTİ

17. What are thunderstorms also called?

- A) Sandstorms.
- B) Electrical storms.
- C) Snowstorms.
- D) Windstorm.

18. Why do we see the lightning first in a thunderstorm??

- A) Because sound moves faster than light.
- B) Because the sky is clear.
- C) Because light moves faster than sound.
- D) Because storms are loud.

19. Where do we usually see sandstorms?

- A) In wet places.
- B) In the mountains.
- C) In hot dry places.
- D) In cold countries.

20. Why do people sometimes have to stop and wait in the cars?

- A) Because of lightning.
- B) Because of a sandstorm.
- C) Because of thunder.
- D) Because of noises.

İNGİLİZCE TESTİNİZ BİTMİŞTİR YANITLARINIZI KONTROL EDİNİZ.