

YAKIN DOĞU İLKOKULU

2017-2018 DERS YILI

4. SINIF 2. SEVİYE TESPİT SINAVI

10 MAYIS 2018 PERŞEMBE

Adı – Soyadı:

Not:.....

Sınıf:

Süre: 90dk.

2. OTURUM SORU KİTAPÇIĞI

MATEMATİK – İNGİLİZCE

GENEL AÇIKLAMA

1. Bu kitapçık Matematik ve İngilizce sorularını içermektedir. Kitapçık 20 sayfadan oluşmaktadır.
2. Bu test 30 Matematik ve 20 İngilizce sorusundan oluşmaktadır. (Toplam 50 soru) Tüm soruları yanıtlamanız için size 90 dakikalık süre verilecektir.
3. Her sorunun 4 seçeneği vardır. Doğru yalnız bir tanesidir. Cevap anahtarındaki doğru cevabın harfini kurşun kalemle iyice karalayınız.
4. Bir soruda birden çok seçenek karalanırsa o soru yanlış olarak değerlendirilir.
5. Bilmediğiniz soru üzerinde fazla zaman harcamayınız. Zamanınız kalırsa tekrar dönersiniz.

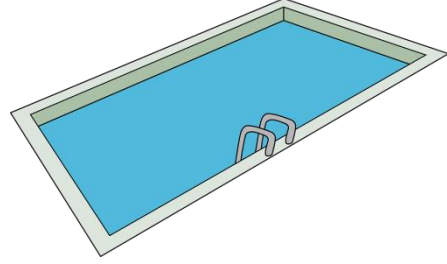
MATEMATİK TESTİ

1. “Elli beş bin elli altı” sayısının doğru yazılışı hangi seçenektir?

- A) 560 055
- B) 5556
- C) 550 056
- D) 55 056

2. Okulumuzun yüzme havuzu 48 500 litre su alır. Bu havuzda 14 378 litre su varsa, dolması için kaç litre suya daha ihtiyaç vardır?

- A) 62 878
- B) 42 805
- C) 34 122
- D) 40 175



3. Aşağıdaki kesirleri küçükten büyüğe sıralarsak baştan üçüncü kesir hangisi olur?

$$\frac{1}{7}, \frac{7}{1}, \frac{1}{9}, 1\frac{1}{9}, 3\frac{1}{7}, \frac{10}{10}$$

- A) $\frac{10}{10}$
- B) $1\frac{1}{9}$
- C) $\frac{7}{1}$
- D) $\frac{1}{9}$

MATEMATİK TESTİ

4. Aşağıda verilen bilgilerden hangisi yanlıştır?

- A) Standart açı ölçme birimi derecedir.
- B) Açıları ölçerken iletke denilen aracı kullanırız.
- C) Başlangıç noktaları aynı olan iki doğru parçası arasındaki açıklığa açı denir.
- D) 360° 'lik açıya doğru açı denir.

5.

$$478 - K = 168$$

$$K + 5 \times 8 = M \text{ ise } M = \text{kaçtır?}$$

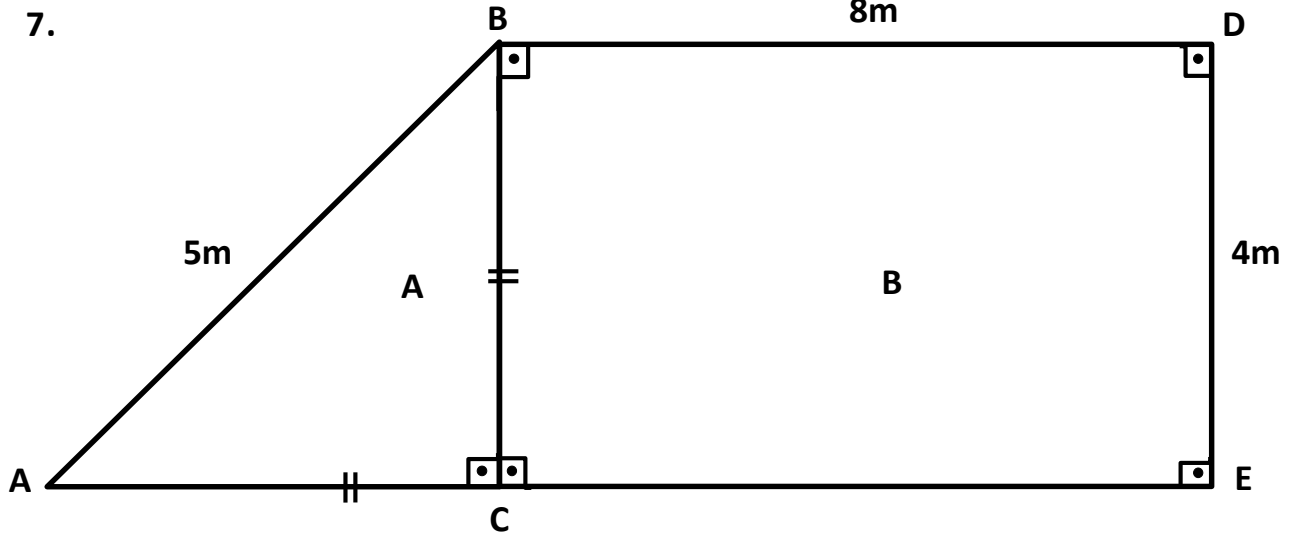
- A) 2570
- B) 880
- C) 350
- D) 12400

6. Günde 40 kuruş biriktiren Cem, bir yılda kaç lira biriktirmiştir?

(Not: 1 yıl 365 gündür.)

- A) 30
- B) 146
- C) 69
- D) 1200

MATEMATİK TESTİ



Yukarıdaki A ve B bahçelerini birleştirip tek bahçe yaptım. Yeni bahçenin etrafına 3 sıra tel çekmek istiyorum. Kaç metre tele ihtiyacım olacak?

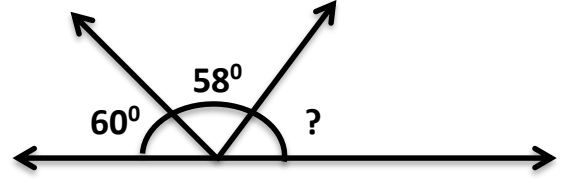
- A) 87
- B) 99
- C) 29
- D) 33

8. $7 \times 3 + (141 \div 3) =$ işleminin sonucu kaçtır?

- A) 73
- B) 68
- C) 444
- D) 9087

MATEMATİK TESTİ

9. Yandaki şekilde “ ? ” ile belirtilen açının ölçüsü hangi seçenekte doğru olarak verilmiştir?



- A) 118°
B) 2°
C) 72°
D) 62°
10. Aylık maaşım 3200 liradır. Kilosu 40 lira olan dana kıymasından 50 kilo alırsam geriye kaç liram kalır?
- A) 2000
B) 3600
C) 1200
D) 3290
11. Aşağıdakilerden hangisi yanlıştır?
- A) H harfinin 1 simetri doğrusu vardır.
B) 7 rakamının simetri doğrusu yoktur.
C) Karenin 4 simetri doğrusu vardır.
D) Bir şekli iki eş parçaya ayıran doğruya simetri doğrusu denir.

MATEMATİK TESTİ

12. 6 dakikada 3 sayfa kitap okuyan Doğa, 1 saatte kaç sayfa kitap okur?

- A) 120
- B) 30
- C) 31
- D) 18



13. $\frac{2}{9}$ 'si 50 olan sayının 125 fazlası kaçtır?

- A) 225
- B) 450
- C) 100
- D) 350

14. $4\frac{4}{17}$ tam sayılı kesri, bileşik kesre çevirirsek aşağıdakilerden hangisini elde ederiz?

- A) $\frac{48}{4}$
- B) $\frac{72}{17}$
- C) $\frac{72}{4}$
- D) $\frac{60}{21}$

MATEMATİK TESTİ

15. $50 > 28 + A$ eşitsizliğinde "A" yerine gelebilecek en büyük sayı kaçtır?

- A) 22
- B) 21
- C) 37
- D) 23

16. Ardışık 3 doğal sayının toplamı 51'dir. Buna göre ortadaki sayı kaçtır?

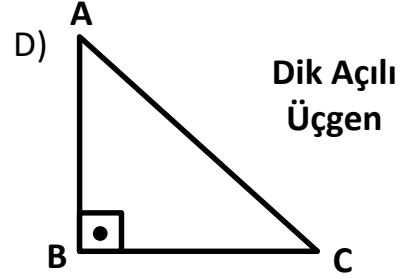
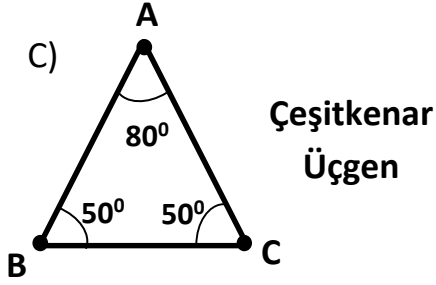
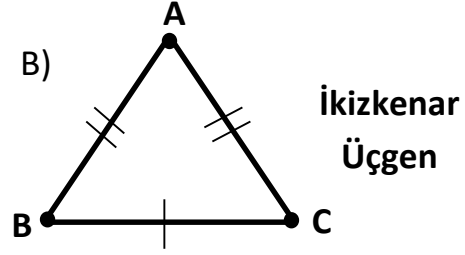
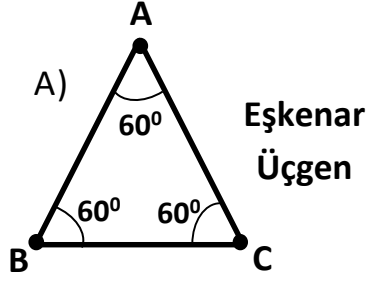
- A) 16
- B) 20
- C) 18
- D) 17

17. Aşağıdakilerden hangisi basit kesirdir?

- A) $4\frac{3}{4}$
- B) $\frac{6}{6}$
- C) $\frac{9}{2}$
- D) $\frac{1}{9}$

MATEMATİK TESTİ

18. Aşağıda verilen üçgenlerden hangisi yanlış isimlendirilmiştir?



19. Aşağıdaki karşılaştırmalardan hangisi doğrudur?

A) $0.05 = \frac{5}{1000}$

B) $0.25 > \frac{15}{100}$

C) $4.42 < 4\frac{1}{100}$

D) $0.75 = 175$

MATEMATİK TESTİ

20. Terzi Mustafa metresi 67 liraya 234 metre kumaş aldı. Satıcı kumaş miktarını 10'a yuvarlayarak parasını aldı.

Terzi Mustafa satıcıya kaç lira verdi?

- A) 16 380
B) 15 678
C) 15 000
D) 15 410

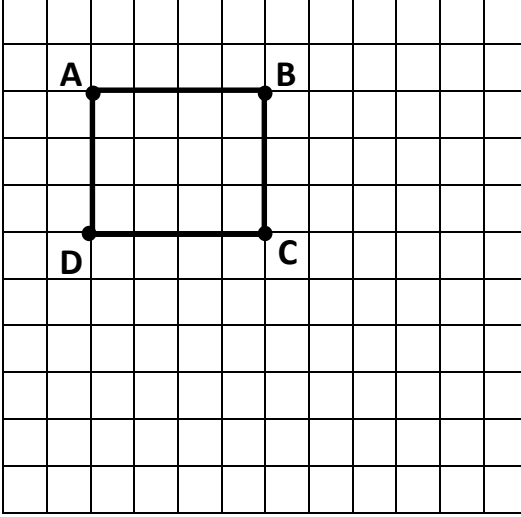


21. Günlük geliri 80 lira olan bir işçi, günlük gelirinin $\frac{1}{4}$ 'ünü biriktirirse 45 günde kaç lira harcamış olur?

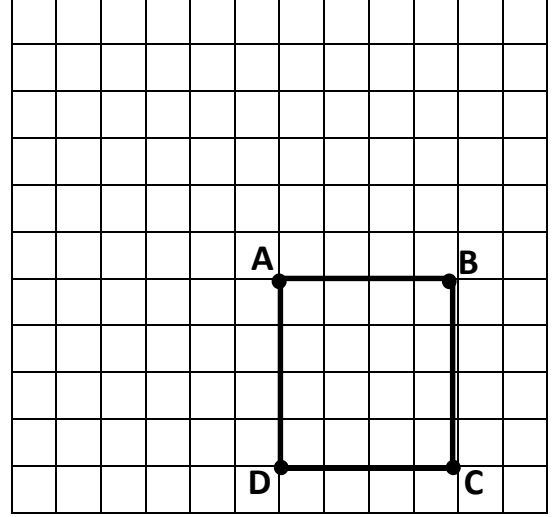
- A) 2700
B) 900
C) 3600
D) 3200

MATEMATİK TESTİ

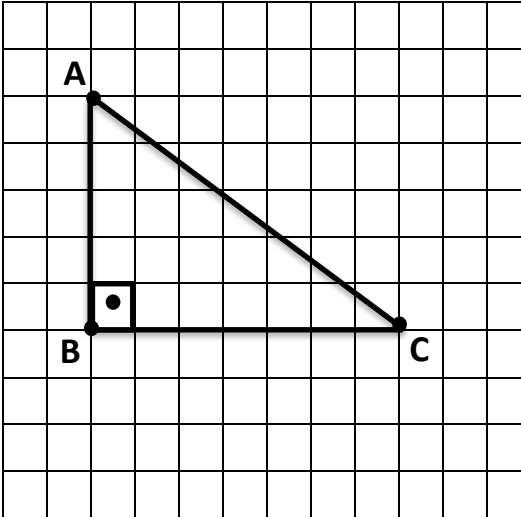
22.



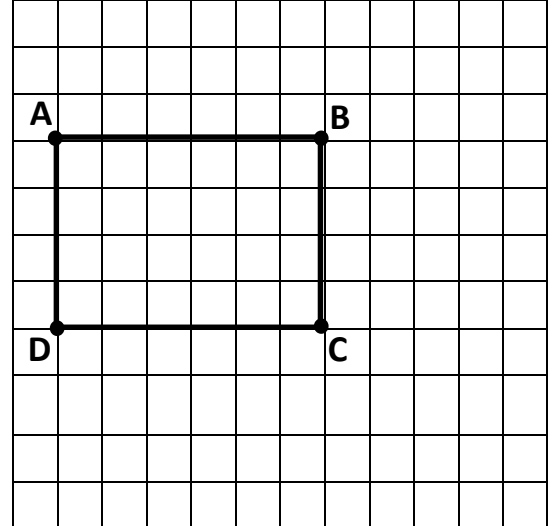
Kenar uzunlukları 3 cm ve 4 cm olan dikdörtgen



Bir kenar uzunluğu 4 cm olan kare



İki dik kenarın uzunlukları 5 cm ve 6 cm olan diküçgen



Uzun kenarı kısa kenarından 2 cm daha fazla olan dikdörtgen

Yukarıda verilen kareli formlarda her bir karenin bir kenarı 1 cm'dir. Buna göre yukarıdaki geometrik şekillerden kaç tanesi doğru ifade edilmiştir?

- A) 1
- B) 2
- C) 3
- D) 4

MATEMATİK TESTİ

23. Bahçemin kenarında bulunan 10 m uzunluğundaki yola boyu 40 cm olan mermerlerden döşemek istiyorum. Kaç tane mermere ihtiyacım vardır?

- A) 250
- B) 30
- C) 25
- D) 26

24. Bir kazanın $\frac{2}{5}$ 'i süt ile doludur. 16 litre daha süt konursa kazanın $\frac{4}{5}$ 'i doluyor. Bu kazan kaç litre süt alır?

- A) 40
- B) 60
- C) 50
- D) 100

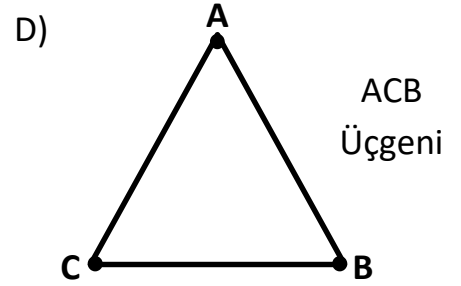
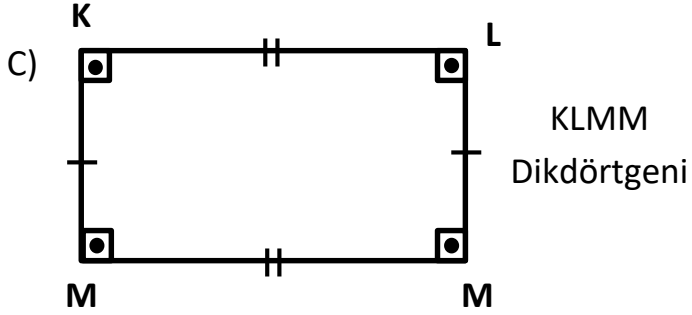
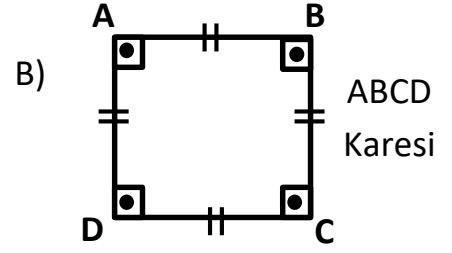
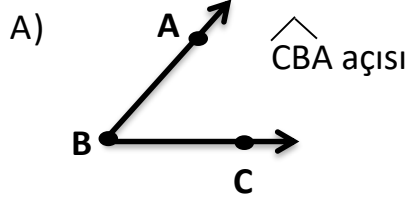
25. 66 kalemin $\frac{5}{6}$ sını 11 arkadaş paylaşırsa her biri kaç kalem alır?

- A) 3
- B) 5
- C) 7
- D) 9



MATEMATİK TESTİ

26. Aşağıdaki geometrik şekillerin isimlendirilmesi hangi seçenekte yanlış verilmiştir?

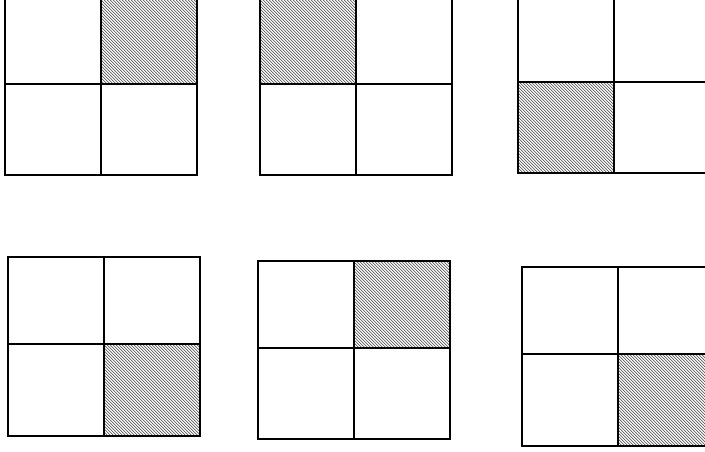


27. Aşağıdaki cümlelerdeki mantıksız seçeneği bulunuz.

- A) Matematik kitabının alanı yemekhanenin alanından büyüktür.
- B) Futbol sahasının alanı sınıfımızın alanından büyüktür.
- C) Yemek masasının üst alanı odamızın alanından küçüktür.
- D) Okul avlusunun alanı müdür odasının alanından büyüktür.

MATEMATİK TESTİ

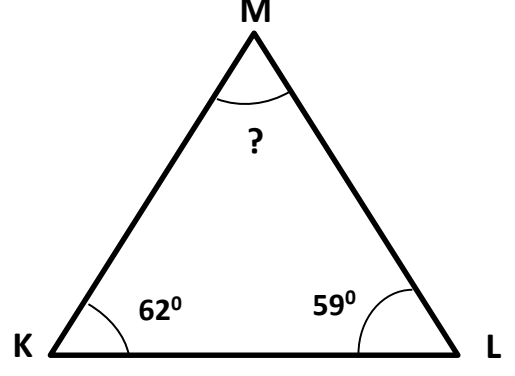
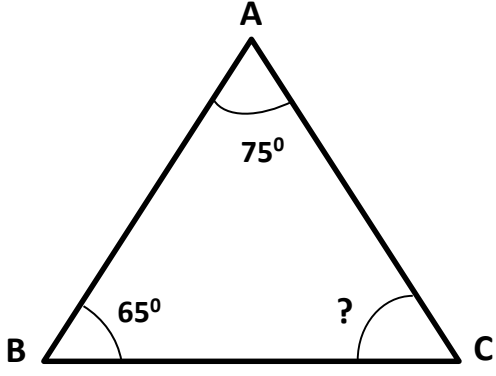
28. Aşağıdaki şekillerde verilen taralı alanların toplamı hangi seçenekte doğru olarak gösterilmiştir?



- A) $6\frac{1}{4}$
- B) $\frac{1}{4}$
- C) $\frac{3}{2}$
- D) $\frac{6}{24}$
29. $2 - 6 - 18 - 54 - \square$ Yandaki sayı dizisinde (örüntüde) boş yere hangi sayı gelmelidir?
- A) 120
- B) 162
- C) 108
- D) 72

MATEMATİK TESTİ

30.



Yukarıdaki üçgenlerde verilmeyen açılarının toplamı kaç derecedir?

- A) 99°
- B) 40°
- C) 59°
- D) 89°

MATEMATİK TESTİNİZ BİTMİŞTİR YANITLARINIZI KONTROL EDEREK
İNGİLİZCE TESTİNE GEÇİNİZ.

İNGİLİZCE TESTİ

Choose the correct answer: a, b, c or d.

31. May is the month of the year.

- A) first
- B) third
- C) fifth
- D) fourth

MAY 2018						
SUN	MON	TUE	WED	THU	FRI	SAT
29	30	1	2	3	4	5
6	7	8	9	10	11	12
13	14	15	16	17	18	19
20	21	22	23	24	25	26
27	28	29	30	31	1	2

32. Tuesday comes after

- A) Monday
- B) Thursday
- C) Friday
- D) Wednesday

33. My sister is very good at

- A) cooks
- B) cook
- C) cooked
- D) cooking



İNGİLİZCE TESTİ

34. car is new. It is red.

- A) Dad
- B) Dad's
- C) Mum
- D) Jim

35. The teacher our homework at the moment.

- A) checks
- B) are checking
- C) checked
- D) is checking



36. I bought a present for Lucy. It was birthday.

- A) his
- B) her
- C) she
- D) their



37. There isn't sugar in my tea.

- A) any
- B) some
- C) a
- D) spoon



İNGİLİZCE TESTİ

38. My dog never biscuits. He doesn't like them.

- A) ate
- B) eat
- C) eats
- D) is eating

39. Last weekend, we to the beach.

- A) go
- B) goes
- C) are going
- D) went

40. an apple and some bananas in the bowl.

- A) There is
- B) There are
- C) Are there
- D) Is there

41. Put the words in order.

you	?	rollerblading	Do	go
1	2	3	4	5

- A) 1 / 4 / 5 / 3 / 2
- B) 4 / 5 / 1 / 3 / 2
- C) 4 / 1 / 5 / 3 / 2
- D) 5 / 1 / 4 / 3 / 2

İNGİLİZCE TESTİ

42. I'm boy in my class.

- A) taller than
- B) tall
- C) taller
- D) the tallest






43. Becca gymnastics on Fridays.

- A) plays
- B) does
- C) goes
- D) makes



44. Alfie a figure and a badge but he a keyring.

		
✓	✗	✓

- A) have got / haven't got
- B) has got / has got
- C) has got / hasn't got
- D) have got / hasn't got

45. Mr Trotter had lunch a restaurant Saturday night.

- A) at / on
- B) in / at
- C) on / in
- D) to / on

İNGİLİZCE TESTİ

46. When I was five, I ride a bike.

- A) can
- B) could
- C) can't
- D) do

Read and answer questions 47-50.

TORTOISES

Some tortoises are friendly animals, and they aren't dangerous. It's easy to look after them and they're good pets. They live more than 60 years!

Tortoises haven't got teeth. Pet tortoises like salad, tomatoes and vegetables. They like fruit too. They like bananas the best. They need clean, fresh water every day.

Tortoises like summer when the weather is hot. In, summer, they can live in a garden. Give a tortoise a box and it can sleep in it all night. In the day, tortoises like walking in the garden. Some tortoises can climb trees. Be careful, because they love eating flowers too!

Tortoises sleep for about five months of the year. In October, take your tortoise into your house and put it into a box in a cupboard. The cupboard is warmer than the garden. The tortoise can sleep there in the winter.

47. A pet tortoise's favourite fruit is

- A) salad
- B) tomatoes
- C) vegetables
- D) bananas

İNGİLİZCE TESTİ

48. In summer, tortoises can sleep all night in

- A) a box
- B) a cupboard
- C) fresh water
- D) trees

49. Tortoises sleep for about

- A) 60 years
- B) 5 years
- C) 5 months
- D) a month.

50. Which one is wrong.

- A) Tortoises like hot weather.
- B) Tortoises are dangerous pets.
- C) Tortoises eat flowers.
- D) Tortoises must have clean, fresh water every day.

İNGİLİZCE TESTİNİZ BİTMİŞTİR YANITLARINIZI KONTROL EDİNİZ.