

YAKIN DOĞU İLKOKULU

2018-2019 DERS YILI

4. SINIF II. SEVİYE TESPİT SINAVI

22 MAYIS 2019 ÇARŞAMBA

Adı – Soyadı:

Not:.....

Sınıf:

Süre: 90dk.

2. OTURUM SORU KİTAPÇIĞI

MATEMATİK – İNGİLİZCE

GENEL AÇIKLAMA

1. Bu kitapçık Matematik ve İngilizce sorularını içermektedir. Kitapçık 16 sayfadan oluşmaktadır.
2. Bu test 30 Matematik ve 20 İngilizce sorusundan oluşmaktadır. (Toplam 50 soru) Tüm soruları yanıtlamanız için size 90 dakikalık süre verilecektir.
3. Her sorunun 4 seçeneği vardır. Doğru yalnız bir tanesidir. Cevap anahtarındaki doğru cevabın harfini kurşun kalemle iyice karalayınız.
4. Bir soruda birden çok seçenek karalanırsa o soru yanlış olarak değerlendirilir.
5. Bilmediğiniz soru üzerinde fazla zaman harcamayınız. Zamanınız kalırsa tekrar dönersiniz.

MATEMATİK TESTİ

1) Aşağıdaki seçeneklerin hangisinde verilen sayıların tümü tek sayıdır?

A) 41, 47, 101, 108, 159

B) 29, 17, 6, 1001, 997

C) 85, 91, 143, 170, 191

D) 99, 73, 55, 47, 19

2) '328 496' sayısında yüzler ve binler basamsaklarında bulunan rakamların sayı değerleri toplamı kaçtır?

A) 4800

B) 8400

C) 12

D) 11

3) Aşağıdaki bölme işlemlerinin hangisinde kalan diğerlerinden farklıdır?

A) $39 : 5 =$

B) $220 : 6 =$

C) $100 : 6 =$

D) $151 : 3 =$

4) Aşağıdaki sayılardan hangisinin en yakın yüzlüğe yuvarlanmış şekli yanlıştır?

A) $496 \rightarrow 500$

B) $318 \rightarrow 300$

C) $849 \rightarrow 900$

D) $728 \rightarrow 700$

MATEMATİK TESTİ

5) 909 – 990 – 1009 – 999 – 929 sayıları, hangi seçenekte küçükten büyüğe doğru olarak sıralanmıştır?

- A) 909 < 929 < 990 < 999 < 1009
B) 909 < 929 < 999 < 990 < 1009
C) 1009 > 999 > 929 > 990 > 909
D) 990 > 909 > 929 > 999 > 1009

6) '34B' üç basamaklı bir çift sayıdır. Buna göre 'B' yerine kaç farklı rakam gelebilir?

- A) 10 B) 4 C) 5 D) 6

7) Aşağıdaki tam sayılı kesirlerden hangisi bileşik kesre yanlış olarak çevrilmiştir?

A) $4 \frac{3}{5} = \frac{23}{5}$

B) $2 \frac{3}{7} = \frac{17}{7}$

C) $3 \frac{1}{4} = \frac{12}{4}$

D) $3 \frac{4}{9} = \frac{31}{9}$

MATEMATİK TESTİ

8) Aşağıdaki kesirlerden hangisinin türü (çeşidi) diğerlerinden farklıdır?

A) $\frac{3}{4}$

B) $\frac{9}{8}$

C) $\frac{17}{15}$

D) $\frac{12}{12}$

9) Çıkanın 968, farkın 346 olduğu bir çıkarma işleminde eksilen kaçtır?

A) 622

B) 1314

C) 1214

D) 1414

10) Hasan 9 yaşındadır ve babası Hasan'dan 32 yaş büyüktür. Buna göre Hasan ile babasının yaş farkı kaçtır?

A) 23

B) 32

C) 41

D) 50



11) Aşağıdaki açılardan hangisi dar açıdan büyük, geniş açıdan küçüktür?

A) 89

B) 90

C) 91

D) 180

MATEMATİK TESTİ

12) Bir satıcı herbiri 35 TL'ye aldığı 12 paket hellimi 43 TL'den satarsa ne kadar kar eder?

A) 96

B)90

C) 47

D) 88



13) 'Açıları ölçmek için kullanılan araca....., açı ölçü birimine isedenir.'

Yukarıdaki ifadede boş bırakılan yerleri, aşağıdaki seçeneklerin hangisindeki sözcükler sırasıyla ve doğru olarak tamamlar?

A) derece - iletke

B) derece – pergel

C) pergel – derece

D) iletke – derece

14) 112 cm'lik bir tel, bir kenarı 10 cm olan 3 tane eşkenar üçgen yapmak için kullanılıyor . Kalan (artan) telin uzunluğu kaç cm'dir?

A) 12

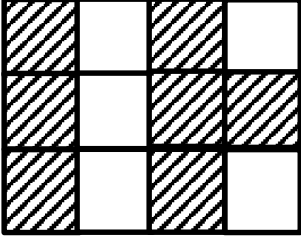
B) 22

C) 2

D) 32

MATEMATİK TESTİ

15)



Eş karelerden oluşan yandaki şekilde koyu renk karelerin bütünün $\frac{3}{4}$ 'ünü göstermesi için kaç karenin daha boyanması gerekir?

A) 1

B) 2

C) 3

D) 4

16) '328 496' sayısında 4 ve 8 rakamlarının yerleri değişirse, sayıda nasıl bir değişiklik olur?

A) 3600 azalır

B) 3600 artar

C) 400 artar

D) 4000 azalır

17) Bir otobüs 128 kilometrelik yolun önce 63 kilometresini, sonra da 21 kilometresini gitmiştir. Otobüsün daha gidecek ne kadar yolu kalmıştır?

A) 84 km

B) 212 km

C) 44 km

D) 42 km

MATEMATİK TESTİ

18) Aşağıdaki sıralamalardan hangisi doğrudur?

A) $\frac{6}{9} > \frac{4}{9} > \frac{5}{9}$

B) $\frac{1}{8} > \frac{1}{6} > \frac{1}{10}$

C) $\frac{4}{6} > \frac{5}{6} > \frac{3}{6}$

D) $\frac{8}{12} > \frac{6}{12} > \frac{5}{12}$

19) 14 adet 50 kuruş, 16 adet 25 kuruş ve 22 adet 1 TL biriktiren Ali'nin istediği topu alabilmesi için 9 TL'ye daha ihtiyacı vardır. Buna göre, Ali'nin almak istediği top kaç liradır?

A) 42 TL

B) 33 TL

C) 61 TL

D) 52 TL



20) $\frac{6}{8} - \frac{4}{8} = A$ ve $\frac{3}{4} + \frac{2}{4} = B$ olduğuna göre, **B - A** işleminin sonucu kaçtır?

A) 0

B) $\frac{2}{4}$

C) $\frac{1}{4}$

D) 1

MATEMATİK TESTİ

21) Aşağıdaki çarpma işlemlerinden hangisinin sonucu yanlış olarak verilmiştir?

A) $3 \times 100 = 300$

B) $300 \times 300 = 90\ 000$

C) $400 \times 500 = 20\ 000$

D) $14 \times 100 = 1400$

22) 3 kilometrelik yolun 1450 metrelik kısmını giden bir bisiklet sürücüsünün daha ne kadar yolu vardır?

A) 1550 km

B) 1550 m

C) 1850 m

D) 1650 m



23) 36 kg unun $\frac{5}{9}$ 'unu harcayan bir fırıncının ne kadar unu kalmıştır?

A) 20 kg

B) 16 kg

C) 4 kg

D) 14 kg

MATEMATİK TESTİ

24) Çevresi 27 cm olan bir eşkenar üçgenin bir kenarının uzunluğu ne kadardır?

- A) 9 cm B) 36 cm C) 18 cm D) 27 cm

25) Kalansız bir bölme işleminde bölüm 18, bölen 12 olduğuna göre bölünen kaçtır?

- A) 30 B) 6 C) 36 D) 216

26) Ayşe parasının önce $\frac{3}{9}$ 'unu, daha sonar da $\frac{4}{9}$ 'unu harcamıştır. Kalan para Ayşe'nin parasının kaçta kaçtır?

- A) $\frac{2}{9}$ B) $\frac{7}{9}$ C) $\frac{1}{9}$ D) $\frac{9}{9}$

27) $6 + 5 \times 12 =$ işleminin sonucu kaçtır?

- A) 132 B) 121 C) 66 D) 562

MATEMATİK TESTİ

28) Günde 75 dakika yürüyüş yapan birisi, 7 günde kaç saat ve kaç dakika yürümüş olur?

A) 5 saat 25 dakika

B) 8 saat 45 dakika

C) 6 saat 30 dakika

D) 9 saat 15 dakika

29) Bir bölme işleminde bölen 21 olduğuna göre, kalan aşağıdakilerden hangisi olamaz?

A) 1

B) 0

C) 20

D) 23

30) Eni 6 cm, boyu 11 cm olan bir dikdörtgenin çevre uzunluğu ne kadardır?

A) 66 cm

B) 17 cm

C) 34 cm

D) 24 cm

MATEMATİK TESTİNİZ BİTMİŞTİR YANITLARINIZI KONTROL EDEREK
İNGİLİZCE TESTİNE GEÇİNİZ.

İNGİLİZCE TESTİ

Read and answer questions 31-34.

THE PICNIC

Lily and her brother Charlie like having picnics in the park. Today, they're having a picnic in the forest with their grandmother. Lily and her grandmother are sitting on a blanket. They're putting the food on it. After lunch, Lily wants to do her homework. She must look at the plants and draw their leaves. Lily's looking at the bread because it's very old and they can't eat it for lunch. Charlie's sitting next to the lake. He's throwing bread to the ducks. It isn't the bread for the ducks. It's the new bread for their picnic. The ducks are eating his family's lunch!



31. Where are Lily and Charlie today?

- A) Feeding the ducks.
- B) In the park.
- C) Eating bread.
- D) In the forest.

32. Who is sitting on the blanket?

- A) Charlie
- B) The ducks
- C) Lily and her grandmother.
- D) The food.

İNGİLİZCE TESTİ

33. What must Lily draw?

- A) Ducks.
- B) Leaves.
- C) Bread.
- D) Food.

34. Which one is correct.

- A) They are in the park today.
- B) Lily wants to do her homework before lunch.
- C) Charlie is throwing bread to the ducks.
- D) The ducks are eating the old bread.

Now answer questions 35 – 50. Choose the correct answer: a, b, c or d.

35. is my new tractor. Do you like it?

- A) Those
- B) This
- C) That
- D) These



İNGİLİZCE TESTİ

36. May comes before

- A) June
- B) January
- C) March
- D) April

37. Put the words in the correct order to make a question.

like	Do	watching TV	?	you
1	2	3	4	5

- A) 5 / 2 / 1 / 3 / 4
- B) 2 / 1 / 5 / 3 / 4
- C) 5 / 2 / 3 / 1 / 4
- D) 2 / 5 / 1 / 3 / 4

38. My brother a red bike. He it every day.

- A) is / rides
- B) has got / riding
- C) has got / rides
- D) have got / ride



İNGİLİZCE TESTİ

39. I usually visit my grandparents the weekend.

- A) in
- B) every
- C) at
- D) next

40. My classmates like football in the park..

- A) playing
- B) plays
- C) play
- D) are playing



41. When I was three, I write but I can now.

- A) could
- B) couldn't
- C) can't
- D) can



42. We be careful when we cross the road.

- A) must
- B) has
- C) has to
- D) have



İNGİLİZCE TESTİ

43. any milk in the fridge?

- A) There isn't
- B) Is there
- C) Are there
- D) There aren't

44. I never wear I don't like them.

- A) a hat
- B) my T-shirt
- C) umbrella
- D) boots

45. I have got new computer game. It's fun.

- A) a
- B) an
- C) some
- D) any






46. Where you last night?

- A) are
- B) was
- C) is
- D) were

İNGİLİZCE TESTİ

47. Matt baseball and tennis but he badminton.

			
Matt	✓	X	✓

- A) play / play
- B) plays / doesn't play
- C) plays / don't play
- D) play / doesn't play

48. Amy is than Mark.

- A) thin
- B) fat
- C) thinner
- D) fatter



49. Last night, I a very big burger.

- A) eat
- B) eating
- C) ate
- D) eats



50. My grandparents live in America. house is near the sea.

- A) Their
- B) His
- C) Her
- D) There



İNGİLİZCE TESTİNİZ BİTMİŞTİR YANITLARINIZI KONTROL EDİNİZ.