

YAKIN DOĞU İLKOKULU

2016-2017 DERS YILI

4.SINIF 2. BURS SINAVI

26 MAYIS 2017 CUMA

Adı – Soyadı:.....

Not:.....

Sınıf :.....

Süre : 90dk.

2.OTURUM SORU KİTAPÇIĞI

MATEMATİK – İNGİLİZCE

GENEL AÇIKLAMA

1. Bu kitapçık Matematik ve İngilizce sorularını içermektedir. Kitapçık 20 sayfadan oluşmaktadır.
2. Bu test 30 Matematik ve 20 İngilizce sorusundan oluşmaktadır. (Toplam 50 soru) Tüm soruları yanıtlamanız için size 90 dakikalık süre verilecektir.
3. Her sorunun 4 seçeneği vardır. Doğru yalnız bir tanesidir. Cevap anahtarındaki doğru cevabın harfini kurşun kalemle iyice karalayınız.
4. Bir soruda birden çok seçenek karalanırsa o soru yanlış olarak değerlendirilir.
5. Bilmediğiniz soru üzerinde fazla zaman harcamayınız. Zamanınız kalırsa tekrar dönersiniz.

MATEMATİK TESTİ

1. Okul kantininde bir şişe suyun fiyatı 50 kuruştur. Rüya dört buçuk lirası ile kaç şişe su alabilir ?

- A) 4
- B) 6
- C) 9
- D) 8

2.

“406 254” sayısının onbinler ve binler basamağındaki rakamlarının sayı değerleri toplamı kaçtır?

- A) 8
- B) 6000
- C) 6200
- D) 6

3. Bir kenarı 15 metre olan kare şeklindeki bir bahçenin çevresine 2 sıra tel çekmek istiyorum. Elimde 100 metre tel olduğuna göre kaç metre tele daha ihtiyacım var?

- A) 20
- B) 120
- C) 30
- D) 70

MATEMATİK TESTİ

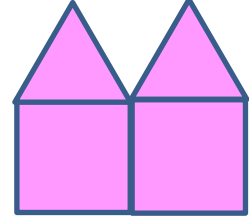
4.

$$\begin{array}{r} \boxed{B} \quad | \quad 16 \\ \hline \quad \quad | \quad 25 \\ \hline \underline{\quad} \\ \underline{\quad} \\ \underline{\quad} \end{array}$$

Yandaki doğal sayılarla yapılan bölme işlemine göre B en fazla kaç olabilir?

- A) 415
- B) 405
- C) 400
- D) 401

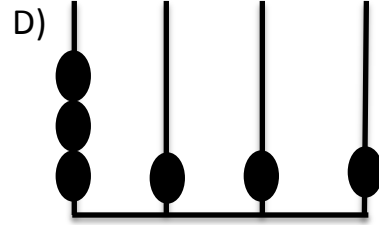
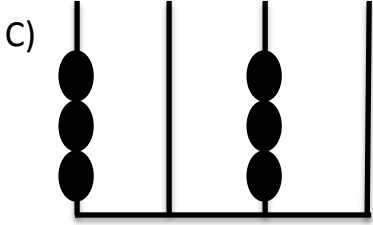
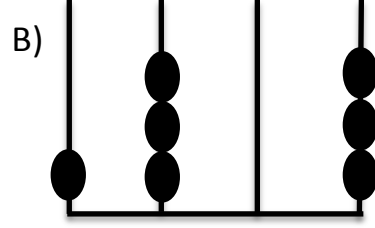
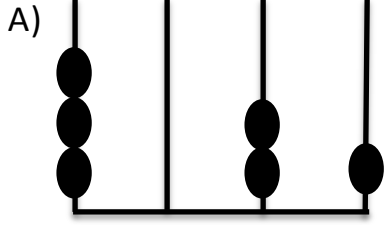
5. Yandaki boyalı şekil iki kare ve iki eşkenar üçgenden oluşmuştur. Boyalı bölgenin çevre uzunluğu 48 cm ise karelerden birinin çevre uzunluğu kaç santimetredir?




- A) 24
- B) 16
- C) 12
- D) 8

MATEMATİK TESTİ

6. "3030" sayısının abaküste gösterilişi hangi seçenekte doğru verilmiştir?



7. 17'ye hangi sayı eklenirse 25'ten 3 eksik olur?

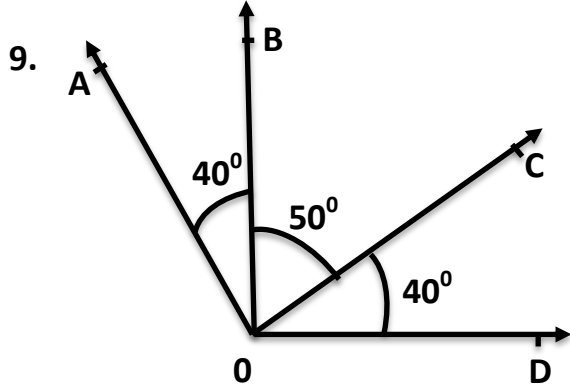


- A) 3
- B) 7
- C) 10
- D) 5

MATEMATİK TESTİ

8. İki ardışık sayının toplamı 57 ise küçük sayının 4 katı kaçtır?

- A) 204
- B) 112
- C) 160
- D) 118



Yukarıdaki şekilde hangi harfler arasında kalan açı geniş açıdır?

- A) \widehat{COB}
- B) \widehat{COD}
- C) \widehat{AOC}
- D) \widehat{AOD}

MATEMATİK TESTİ

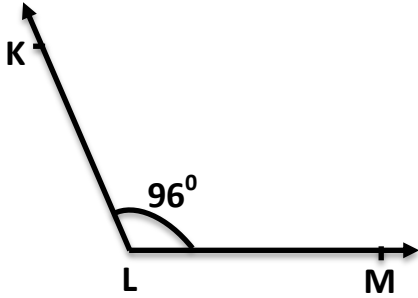
10. Günde 9 saat uyuyan bir çocuk 3 haftada kaç saat uyanık kalır?

- A) 135
- B) 189
- C) 225
- D) 315

11. Okul mutfağında öğrencilere verilen 90 elmanın $\frac{2}{6}$ 'sı yendi.
Yenmeyen elma sayısı kaçtır?

- A) 180
- B) 60
- C) 30
- D) 45

12.



Yukarıdaki açı ile ilgili verilen bilgilerden hangisi doğrudur?

- A) \hat{KML} diye adlandırılır.
- B) Ölçüsü en büyük olan dar açıdan 7° daha büyüktür.
- C) Ölçüsü doğru açıdan 74° daha küçüktür.
- D) En küçük geniş açıdır.

MATEMATİK TESTİ

13. Ali $\longrightarrow 8 \times 110 = 880$

Can $\longrightarrow 200 \div 10 + 5 = 15$

Burhan $\longrightarrow 12 - 5 + 9 = 16$

Selim $\longrightarrow 5 \times (14 \div 2) = 22$

Yukarıdaki işlemleri doğru olarak kimler yaptı?

- A) Can - Ali
- B) Burhan - Selim
- C) Ali – Burhan
- D) Can – Burhan

14. **4 basamaklı en büyük çift doğal sayısının yarısı kaçtır?**

- A) 4999
- B) 4900
- C) 8881
- D) 7777

15. **Bir çıkarma işleminde eksilen 740, çıkan 539'dur. Eksileni 57 azaltırsam fark için aşağıdaki hangi seçenek doğru bir ifadedir?**

- A) Fark 201 olur.
- B) Fark artar.
- C) Fark 144 olur.
- D) Fark eksilenden büyük olur.

MATEMATİK TESTİ

16. Özker doğum gününde tüm pastaları 5'er eşit parçaya ayırıp misafirlere ikram etti. Doğum günü partisinin sonunda 37 parça pasta artığına göre artan pastalar matematiksel olarak nasıl ifade edilebilir?

A) 37

B) $7\frac{1}{2}$

C) $5\frac{2}{6}$

D) $7\frac{2}{5}$

17. Bir doğru açı ile geniş açının toplamı 274° ise geniş açının ölçüsü ne kadardır?

A) 96°

B) 94°

C) 104°

D) 184°

18. Mersin-Gazimağusa arasında yolcu taşıyan gemide 648 yolcu vardır. Erkekler kadınlardan 74 fazla ise erkekler kaç kişidir?

A) 287

B) 574

C) 361

D) 772

MATEMATİK TESTİ

19.

$$\frac{3}{15} - \frac{3}{7} - \frac{3}{2} - \frac{3}{8}$$

Kesirlerinin büyükten küçüğe sıralanışı hangi seçenekte doğru olarak verilmiştir?

A) $\frac{3}{15} > \frac{3}{7} > \frac{3}{2} > \frac{3}{8}$

B) $\frac{3}{15} > \frac{3}{8} > \frac{3}{7} > \frac{3}{2}$

C) $\frac{3}{2} > \frac{3}{7} > \frac{3}{8} > \frac{3}{15}$

D) $\frac{3}{2} > \frac{3}{8} > \frac{3}{15} > \frac{3}{7}$

20.



5 - 7 - 11 - ? - 35

Yukarıdaki örüntüde boş yere hangi sayı gelmelidir?

A) 24

B) 19

C) 17

D) 28

MATEMATİK TESTİ

21.

$$[AB] = 9 \text{ cm} \quad s(A) = 40^\circ$$

$$[BC] = 6 \text{ cm} \quad s(B) = 70^\circ$$

$$[AC] = 9 \text{ cm} \quad s(C) = 70^\circ$$



Yukarıda verilen bilgilere bakarak seçeneklerden hangisi doğrudur?

- A) Dikdörtgendir. 4 açısı vardır.
- B) İkizkenar ve dar açılı üçgendir.
- C) Eşkenar ve dik açılı üçgendir.
- D) Çeşitkenar ve geniş açılı üçgendir.

22.



Aşağıdaki kesirlerden hangisi birim kesirdir?

A) $\frac{1}{11}$

B) $\frac{5}{1}$

C) $\frac{8}{8}$

D) $\frac{11}{1}$

MATEMATİK TESTİ

23. Birbirine eş iki kare aynı doğrultuda yan yana getirildiğinde meydana gelen şekil aşağıdakilerden hangisidir?

- A) Üçgen
- B) Kare
- C) Hiçbiri
- D) Dikdörtgen

24. Tanesi 738 lira olan bisikletlerden 3 tane almak isteyen Burak satıcıya bisikletleri yüze yuvarlayarak satmasını önerdi. Satıcı bu öneriyi kabul etti. Burak bu alışverişte satıcıya kaç lira verdi?

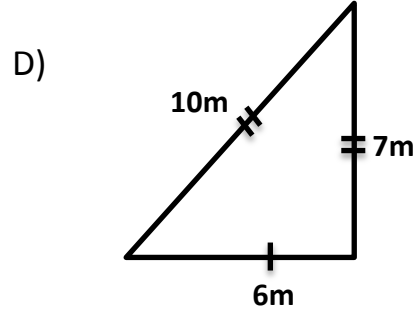
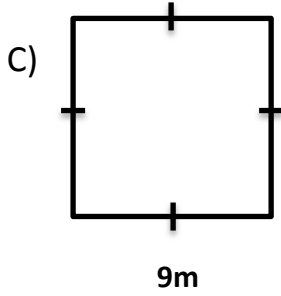
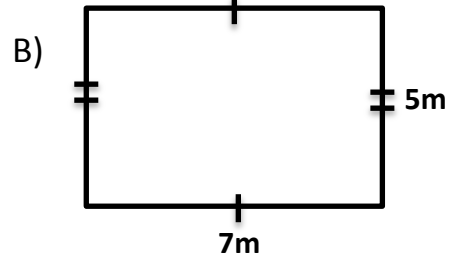
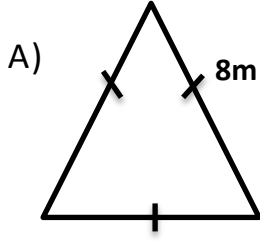
- A) 2214
- B) 2190
- C) 2100
- D) 114

25. $K < 124 - 93$ eşitsizliğini sağlayan en büyük doğal sayı kaçtır?

- A) 29
- B) 30
- C) 31
- D) 32

MATEMATİK TESTİ

26. Aşağıdaki bahçelerin çevresini telle çevirmek istiyorum. Hangisinin daha çok tele ihtiyacı var?



27. Ali, Kemal ve Osman'ın 40'ar lirası vardır. Ali parasının $\frac{1}{5}$ 'ini, Kemal

$\frac{1}{4}$ 'ünü, Osman ise $\frac{1}{8}$ 'ini harcadı. Buna göre hangisinin geriye

kalan parası en fazladır?

- A) Ali'nin
- B) Kemal'in
- C) Osman'ın
- D) Hepsinin eşit miktarda parası kaldı.

MATEMATİK TESTİ

28. Aşağıdaki karşılaştırmalardan hangisi yanlıştır?

A) $\frac{3}{8} > \frac{3}{15}$

B) $1\frac{1}{8} < 3\frac{1}{8}$

C) $\frac{15}{2} > \frac{1}{2}$

D) $\frac{7}{2} < \frac{7}{4}$

29. $\boxed{605} + \boxed{112} + \boxed{?} = 1073$ ise soru işareti olan yere

hangi sayı gelmelidir?

A) 572

B) 356

C) 430

D) 1040

MATEMATİK TESTİ

30. 9 katlı bir apartmanın tüm katları eşit yüksekliktedir. İlk 5 katın toplam yüksekliği 35 metre ise apartmanın toplam yüksekliği ne kadardır?

- A) 63 metre
- B) 315 metre
- C) 205 metre
- D) 85 metre

**MATEMATİK TESTİNİZ BİTMİŞTİR YANITLARINIZI KONTROL EDEREK
İNGİLİZCE TESTİNE GEÇİNİZ.**

İNGİLİZCE TESTİ

Choose the correct answer: a, b, c or d.

31. We always play tennis Mondays.

- A) at
- B) on
- C) in
- D) under



32. My mum usually the house at the weekend.

- A) cleaning
- B) clean
- C) is cleaning
- D) cleans



33. My dad likes his car to work.

- A) drives
- B) drove
- C) driving
- D) drive

İNGİLİZCE TESTİ

34. My friends and I are in the park. are playing football.

- A) I
- B) We
- C) He
- D) You

35. newspaper is this? Can I read ?

- A) Where / it
- B) When / them
- C) Whose / it
- D) Why / them



36. My grandparents live in the city. house is near the sea.

- A) Their
- B) They
- C) His
- D) Her

İNGİLİZCE TESTİ

37. I'm bored. go to the beach.

- A) Shall
- B) What
- C) How about
- D) Let's

38. Last night, it all night.

- A) rains
- B) rained
- C) raining
- D) rainy



39. John: tidied my room?

Sally: Mum did it.

- A) Why
- B) Where
- C) Who
- D) What

40. A: you watch a film last night?

B: No, I I was tired so I went to bed early.

- | | |
|-------------------|-----------------|
| A) Did / did | B) Do / don't |
| C) Does / doesn't | D) Did / didn't |

İNGİLİZCE TESTİ

41. Would you like milk in your coffee?

- A) many
- B) some
- C) an
- D) lot

42. A: Whose bag is this?

B: It's

- A) Lucy's
- B) her
- C) them
- D) Sally



43. I in Turkey last week but I in Cyprus now.

- A) was / am
- B) am / was
- C) are / were
- D) were / are

44. My grandfather at the moment.

- A) sleeping
- B) sleeps
- C) sleep
- D) is sleeping



İNGİLİZCE TESTİ

45. Lily and Charlie a lot of homework.

- A) have got
- B) has
- C) hasn't got
- D) hasn't

Read and answer questions 46-50.

OUR LOVELY HOLIDAY

Last week, my parents, my brother and I went to Antalya. My grandfather drove us to the airport.

We arrived in Antalya at eleven o'clock in the morning and went to the hotel by taxi. The hotel was opposite the beach. The weather was very good. It was sunny and hot. My brother and I swam in the sea every day. It was lovely and warm. Mum and Dad can't swim so they sat on a blanket and watched us.

At lunch time, we always ate at the hotel. We usually ate a sandwich and drank orange juice or water. After lunch, we sometimes rode our bikes.

There were lots of cafés and restaurants near the hotel, so every night we went to a different place to eat. I liked the Italian restaurant the best because I love pizza.

We are back at home now. I miss Antalya but I am happy to be at home.

46. How many people went to Antalya?

- A) Three.
- B) Five.
- C) Two.
- D) Four.

İNGİLİZCE TESTİ

47. How did they go to the hotel?

- A) On foot.
- B) By car.
- C) By taxi.
- D) By bike.

48. Where did they eat lunch?

- A) At the hotel.
- B) At the beach.
- C) At a café.
- D) At a restaurant.

49. When did they ride their bikes?

- A) Before lunch.
- B) In the morning.
- C) In the afternoon.
- D) At night.

50. Where are they now?

- A) At the hotel.
- B) At home.
- C) At the beach.
- D) At the café.

İNGİLİZCE TESTİNİZ BİTMİŞTİR YANITLARINIZI KONTROL EDİNİZ.